

# Formulario

RICHIAMI DI ALGEBRA .....	1
<i>I radicali</i> .....	1
<i>Il valore assoluto</i> .....	1
<i>Le equazioni di secondo grado</i> .....	2
<i>Regole di scomposizione dei polinomi</i> .....	3
RICHIAMI DI GEOMETRIA EUCLIDEA .....	4
<i>Perimetri ed aree e di alcune figure piane</i> .....	5
<i>Aree e volumi di alcuni solidi notevoli</i> .....	6
GEOMETRIA ANALITICA .....	7
<i>La retta</i> .....	7
<i>La circonferenza</i> .....	9
<i>La parabola</i> .....	9
<i>L'ellisse</i> .....	10
<i>L'iperbole</i> .....	11
GRAFICI TRASFORMATI .....	13
GONIOMETRIA .....	15
<i>Funzioni goniometriche</i> .....	15
<i>Grafici e proprietà delle funzioni goniometriche</i> .....	15
<i>Funzioni goniometriche inverse</i> .....	18
<i>Grafici e proprietà delle funzioni goniometriche inverse</i> .....	18
<i>Funzioni goniometriche di angoli particolari</i> .....	20
<i>Relazioni e proprietà fondamentali</i> .....	22
<i>Formule goniometriche</i> .....	22
<i>Trigonometria</i> .....	24
ESPONENZIALI .....	25
<i>Funzioni esponenziali</i> .....	25
LOGARITMI .....	26
<i>Proprietà dei logaritmi</i> .....	26
<i>Funzioni logaritmiche</i> .....	26
SCHEMI RISOLUTIVI DI DISEQUAZIONI DI VARIO TIPO .....	28
<i>Disequazioni potenza</i> $[g(x)]^n \geq 0, n \in N \wedge n \geq 2$ .....	28
<i>Disequazioni binomie</i> $ax^n + b \geq 0, n \in N \wedge n \geq 2$ .....	28
<i>Disequazioni trinomie</i> $ax^{2n} + bx^n + c \geq 0, n \in N \wedge n > 2$ .....	28

<i>Disequazioni irrazionali</i> $\sqrt[n]{a(x)} \geq b(x), n \in \mathbb{N} \wedge n > 2$ .....	28
<i>Disequazioni in valore assoluto</i> $ g(x)  \geq b$ , con $b \in \mathbb{R}$ .....	29
<i>Disequazioni goniometriche lineari</i> $a \sin x + b \cos x \geq c, a \cos x + b \sin x \geq c$ .....	29
<i>Disequazioni esponenziali</i> $a^{g(x)} \geq b$ .....	30
<i>Disequazioni logaritmiche</i> $\log_a g(x) \geq b$ .....	30
DOMINI DELLE FUNZIONI PIÙ COMUNI.....	31
GRAFICI DELLE PRINCIPALI FUNZIONI ALGEBRICHE .....	32
LIMITI.....	33
<i>Verifiche della correttezza dei limiti</i> .....	33
<i>Limiti notevoli</i> .....	33
DERIVATE.....	34
<i>Derivate delle funzioni elementari</i> .....	34
<i>Regole di derivazione</i> .....	35
INTEGRALI.....	35
<i>Integrali indefiniti immediati</i> .....	35
<i>Regole di integrazione</i> .....	36
<i>Integrali definiti</i> .....	36
CALCOLO COMBINATORIO .....	38
PROGRESSIONI.....	38

## Richiami di algebra

### I radicali

#### Razionalizzazioni

- $\frac{A}{\sqrt[n]{B}} = \frac{A}{\sqrt[n]{B}} \cdot \frac{\sqrt[n]{B^{n-1}}}{\sqrt[n]{B^{n-1}}} = \frac{A \cdot \sqrt[n]{B^{n-1}}}{\sqrt[n]{B^n}} = \frac{A \cdot \sqrt[n]{B^{n-1}}}{B}$
- $\frac{A}{\sqrt{B \pm \sqrt{C}}} = \frac{A}{\sqrt{B \pm \sqrt{C}}} \cdot \frac{\sqrt{B \mp \sqrt{C}}}{\sqrt{B \mp \sqrt{C}}} = \frac{A \cdot (\sqrt{B \mp \sqrt{C}})}{(\sqrt{B})^2 - (\sqrt{C})^2} = \frac{A \cdot (\sqrt{B \mp \sqrt{C}})}{B - C}$

#### Radicali doppi $\sqrt{a \pm \sqrt{b}}$

- Se  $a^2 - b$  è un quadrato perfetto

$$\sqrt{a \pm \sqrt{b}} = \sqrt{\frac{a + \sqrt{a^2 - b}}{2}} \pm \sqrt{\frac{a - \sqrt{a^2 - b}}{2}},$$

- Se  $b$  è divisibile per 4 ed esistono due numeri interi  $p$  e  $q$  tali che  $\begin{cases} p \cdot q = \frac{b}{4} \\ p + q = a \end{cases}$

$$\sqrt{a \pm \sqrt{b}} = \sqrt{p} \pm \sqrt{q}$$

### Il valore assoluto

$$|a| = \begin{cases} a & \text{se } a \geq 0 \\ -a & \text{se } a < 0 \end{cases}$$

#### Proprietà del valore assoluto

- $\forall a \in \mathbb{R} \quad |a| \geq 0;$
- $\forall a, b \in \mathbb{R} \quad |a \cdot b| = |a| \cdot |b|;$
- $\forall a, b \in \mathbb{R} \quad |a/b| = |a|/|b|;$
- $\forall a, b \in \mathbb{R} \quad |a + b| \leq |a| + |b|$  (disuguaglianza triangolare);
- $\forall a \in \mathbb{R} \quad \sqrt{a^2} = |a|;$
- Se  $k \geq 0$ 
  - $|a| < k \Leftrightarrow -k < a < k$
  - $|a| > k \Leftrightarrow a < -k \vee a > k$
  - $|a| = k \Leftrightarrow a = \pm k.$
- Se  $k < 0$ 
  - $|a| \leq k$  la disuguaglianza è impossibile
  - $|a| > k$  la disuguaglianza è sempre vera

## Le equazioni di secondo grado

$$ax^2 + bx + c = 0 \quad \text{con } a, b, c \in \mathbb{R} \text{ e } a \neq 0 \quad \Rightarrow \quad x = \frac{-b \pm \sqrt{b^2 - 4ac}}{2a} \quad \Delta = b^2 - 4ac$$

$$\text{Se } b \text{ è un numero pari} \quad \Rightarrow \quad x = \frac{-\frac{b}{2} \pm \sqrt{\left(\frac{b}{2}\right)^2 - ac}}{a} \quad \frac{\Delta}{4} = \left(\frac{b}{2}\right)^2 - ac$$

- se  $\Delta > 0$  l'equazione ha due soluzioni reali e distinte
- se  $\Delta = 0$  l'equazione ha due soluzioni coincidenti
- se  $\Delta < 0$  l'equazione non ha soluzioni reali

### Relazione tra i coefficienti e le soluzioni

Se l'equazione ha due soluzioni reali  $x_1$  e  $x_2$  allora  $x_1 + x_2 = -\frac{b}{a}$  e  $x_1 \cdot x_2 = \frac{c}{a}$ .

### Regola di Cartesio

Data un'equazione di secondo grado  $ax^2 + bx + c = 0$ , ad ogni permanenza dei segni dei coefficienti  $a, b, c$  corrisponde una soluzione negativa, ad ogni variazione una soluzione positiva.

### Equazioni incomplete

$$\text{Se } b = 0 \text{ (equazione pura)} \quad ax^2 + c = 0 \quad \Rightarrow \quad x^2 = -\frac{c}{a} \begin{cases} \text{impossibile se } -\frac{c}{a} < 0 \\ x = \pm \sqrt{-\frac{c}{a}} \text{ se } -\frac{c}{a} \geq 0 \end{cases}$$

$$\text{Se } c = 0 \text{ (equazione spuria)} \quad ax^2 + bx = 0 \quad \Rightarrow \quad x(ax + b) = 0 \quad \Rightarrow \quad x = 0 \vee x = -\frac{b}{a},$$

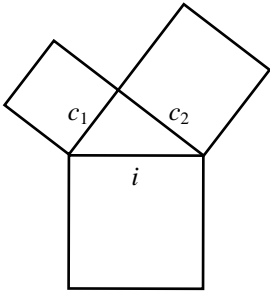
$$\text{Se } b = c = 0 \text{ (equazione monomia)} \quad ax^2 = 0 \quad \Rightarrow \quad x = 0.$$

## Regole di scomposizione dei polinomi

Numero dei termini	Regola	Esempio
Binomi	<p style="text-align: center;">Raccoglimento totale</p> <p>Differenza di due quadrati: <math>A^2 - B^2 = (A + B) \cdot (A - B)</math></p> <p>Differenza di due cubi: <math>A^3 - B^3 = (A - B) \cdot (A^2 + AB + B^2)</math></p> <p>Somma di due cubi: <math>A^3 + B^3 = (A + B) \cdot (A^2 - AB + B^2)</math></p>	$6ab^2 + 3ab^3 = 3ab^2 \cdot (2 + b)$ $x^2 - 4y^2 = x^2 - (2y)^2 = (x + 2y) \cdot (x - 2y)$ $8 - a^3 = 2^3 - a^3 = (2 - a) \cdot (4 + 2a + a^2)$ $b^3 + 27 = b^3 + 3^3 = (b + 3) \cdot (b^2 - 3b + 9)$
Trinomi	<p style="text-align: center;">Raccoglimento totale</p> <p>Quadrato di un binomio: <math>A^2 + 2AB + B^2 = (A + B)^2</math></p> <p>Trinomio speciale: <math>x^2 + Sx + P = (x + A) \cdot (x + B)</math>  <math>S = A + B</math>  <math>P = A \cdot B</math></p> <p>Trinomio di 2° grado: <math>ax^2 + bx + c</math> con due zeri <math>x_1, x_2</math>  <math>ax^2 + bx + c = a(x - x_1)(x - x_2)</math></p>	$6x^3 - 2x^2 + 4x = 2x \cdot (3x^2 - x + 2)$ $a^2 - 4a + 4 = (a - 2)^2$ <p><math>A = a, B = -2; 2AB = 2 \cdot a \cdot (-2) = -4a</math></p> $x^2 - x - 6 = (x + 2) \cdot (x - 3)$ <p><math>S = -1 = 2 + (-3)</math>  <math>P = -6 = 2 \cdot (-3)</math></p> $2x^2 - 5x - 3 = 2 \left( x + \frac{1}{2} \right) (x - 3)$ $x_{1,2} = \frac{5 \pm \sqrt{25 + 24}}{4} = \frac{5 \pm 7}{4} = \begin{cases} -\frac{1}{2} \\ 3 \end{cases}$
Quadrinomi	<p style="text-align: center;">Raccoglimento totale</p> <p style="text-align: center;">Raccoglimento parziale</p> <p>Cubo di un binomio: <math>A^3 + 3A^2B + 3AB^2 + B^3 = (A + B)^3</math></p>	$x^4 - 3x^3 - 6x^2 + 4x = x \cdot (x^3 - 3x^2 - 6x + 4)$ $2a^2 - 4a - ab + 2b = 2a \cdot (a - 2) - b \cdot (a - 2) = (a - 2) \cdot (2a - b)$ $a^3 - 6a^2 + 12a - 8 = (a - 2)^3$ <p><math>A = a, B = -2; 3A^2B = 3 \cdot a^2 \cdot (-2) = -6a^2, 3AB^2 = 3 \cdot a \cdot (-2)^2 = 12a</math></p>

## Richiami di geometria euclidea

### Teorema di Pitagora

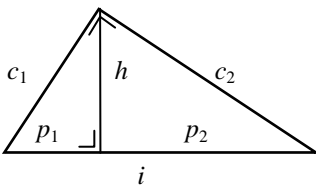


$$i^2 = c_1^2 + c_2^2$$

$$c_1^2 = i^2 - c_2^2$$

$$c_2^2 = i^2 - c_1^2$$

### Teoremi di Euclide



Primo teorema

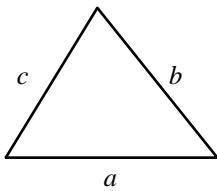
$$i : c_1 = c_1 : p_1$$

$$i : c_2 = c_2 : p_2$$

Secondo teorema

$$p_1 : h = h : p_2$$

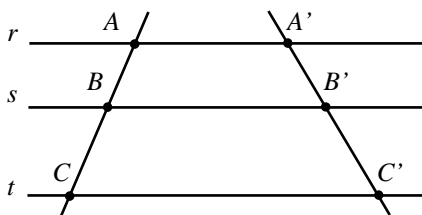
### Formula di Erone



Indicato con  $p = \frac{a+b+c}{2}$

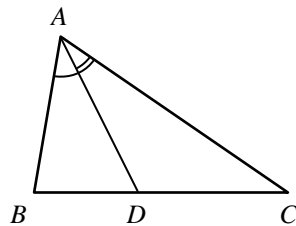
$$Area = \sqrt{p \cdot (p-a) \cdot (p-b) \cdot (p-c)}$$

### Teorema di Talete



$$r \parallel s \parallel t \Rightarrow AB : BC = A'B' : B'C'$$

### Teorema della bisettrice di un angolo interno di un triangolo

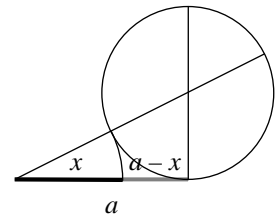


$$\hat{B}AD \cong \hat{C}AD \Rightarrow BD : DC = AB : AC$$

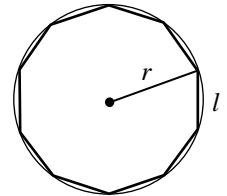
### Sezione aurea

$x$  sezione aurea di un segmento di lunghezza  $a \Rightarrow a : x = x : (a - x)$   

$$x = \frac{\sqrt{5} - 1}{2} \cdot a$$



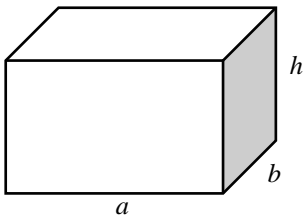
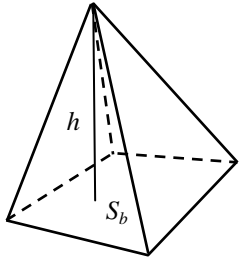
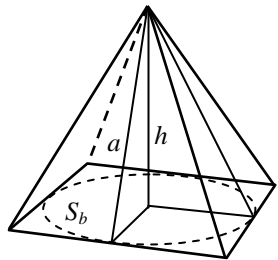
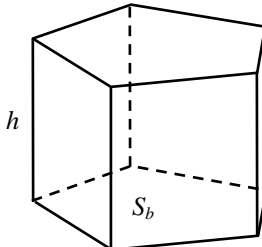
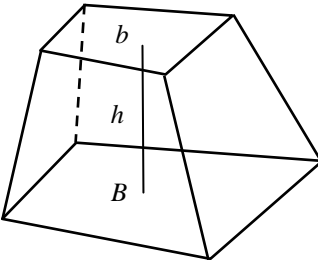
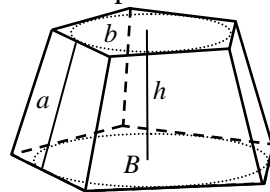
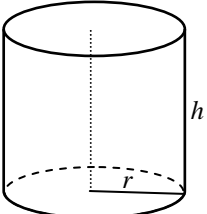
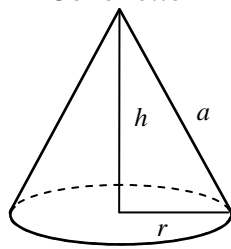
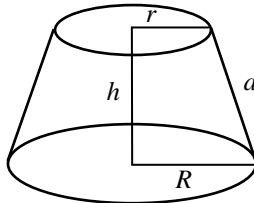
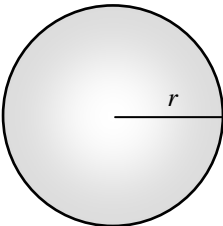
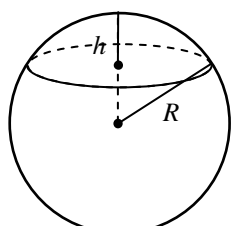
Il lato del decagono regolare inscritto in una circonferenza è uguale alla sezione aurea del raggio



### Perimetri ed aree e di alcune figure piane

<p style="text-align: center;">Trapezio</p> $S = \frac{(B+b) \cdot h}{2}$	<p style="text-align: center;">Parallelogramma</p> $S = b \cdot h$	<p style="text-align: center;">Rombo</p> $P = 4l \quad S = \frac{d_1 \cdot d_2}{2}$
<p style="text-align: center;">Poligono regolare</p> <p><math>P</math> = perimetro, <math>n</math> = numero dei lati</p> $P = n \cdot l \quad S = \frac{P \cdot a}{2}$ $S = \frac{n}{4} \cotg\left(\frac{\pi}{n}\right) \cdot l^2 = \frac{n}{2} \operatorname{sen}\left(\frac{2\pi}{n}\right) \cdot r^2$	<p style="text-align: center;">Cerchio</p> <p><math>C</math> = lunghezza della circonferenza</p> $C = 2\pi r \quad S = \pi r^2$	<p style="text-align: center;">Settore circolare</p> <p><math>\alpha</math> = misura in radianti dell'angolo al centro corrispondente</p> $l = \alpha \cdot r \quad S = \frac{l \cdot r}{2} = \frac{1}{2} r^2 \alpha$
<p style="text-align: center;">Segmento circolare</p> <p><math>\alpha</math> = misura in radianti dell'angolo al centro corrispondente</p> $S = \frac{1}{2} r^2 (\alpha - \operatorname{sen} \alpha)$		

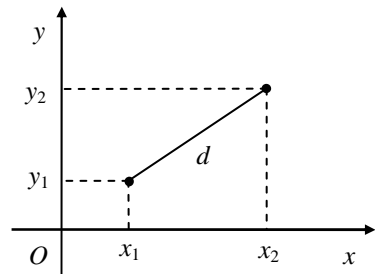
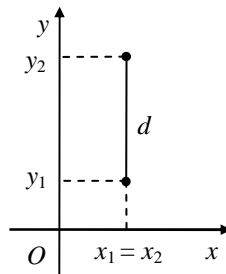
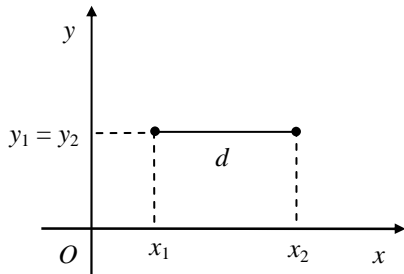
## Aree e volumi di alcuni solidi notevoli

<p>Parallelepipedo rettangolo</p>  <p><math>S_l = 2(a + b)h</math>  <math>S_t = 2(ab + ah + bh) \quad V = abh</math></p>	<p>Piramide</p>  <p><math>V = \frac{1}{3} S_B h</math></p>	<p>Piramide retta</p>  <p><math>P =</math> perimetro della base  <math>S_l = \frac{1}{2} P a \quad V = \frac{1}{3} S_B h</math></p>
<p>Prisma retto</p>  <p><math>P =</math> perimetro della base  <math>S_l = P h \quad V = S_B h</math></p>	<p>Tronco di piramide</p>  <p><math>V = \frac{1}{3} h (B + b + \sqrt{Bb})</math></p>	<p>Tronco di piramide retta</p>  <p><math>P =</math> perimetro base maggiore  <math>p =</math> perimetro base minore</p> <p><math>S_l = \frac{1}{2} (P + p) a</math>  <math>V = \frac{1}{3} h (B + b + \sqrt{Bb})</math></p>
<p>Cilindro</p>  <p><math>S_l = 2\pi r h \quad V = \pi r^2 h</math></p>	<p>Cono retto</p>  <p><math>S_l = \pi r a \quad V = \frac{1}{3} \pi r^2 h</math></p>	<p>Tronco di cono</p>  <p><math>S_l = \pi (R + r) a</math>  <math>V = \frac{1}{3} \pi h (R^2 + r^2 + Rr)</math></p>
<p>Sfera</p>  <p><math>S = 4\pi r^2 \quad V = \frac{4}{3} \pi r^3</math></p>	<p>Calotta e segmento sferico</p>  <p><math>S = 2\pi R h \quad V = \frac{1}{3} \pi h^2 (3R - h)</math></p>	



## Geometria analitica

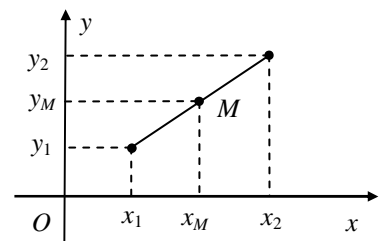
### Distanza tra due punti $(x_1; y_1)$ e $(x_2; y_2)$



$$d = \sqrt{(x_2 - x_1)^2 + (y_2 - y_1)^2} = \begin{cases} |x_2 - x_1| & \text{se } y_2 = y_1 \\ |y_2 - y_1| & \text{se } x_2 = x_1 \end{cases}$$

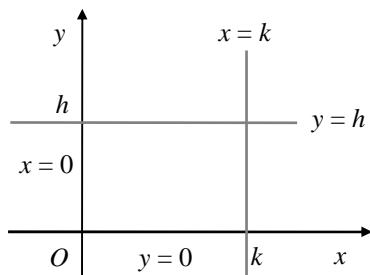
### Punto medio di un segmento di estremi $(x_1; y_1)$ e $(x_2; y_2)$

$$\begin{cases} x_M = \frac{x_1 + x_2}{2} \\ y_M = \frac{y_1 + y_2}{2} \end{cases}$$

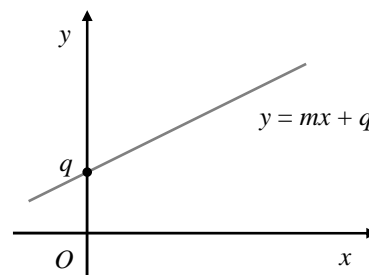


## La retta

### Equazioni delle rette parallele agli assi



### Equazioni delle rette non parallele all'asse y



### Equazione della retta in forma implicita

$$ax + by + c = 0$$

### Equazione della retta in forma esplicita

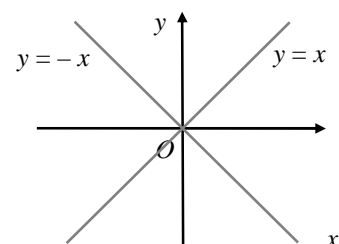
$$y = mx + q$$

$m$  coefficiente angolare,  $q$  ordinata all'origine

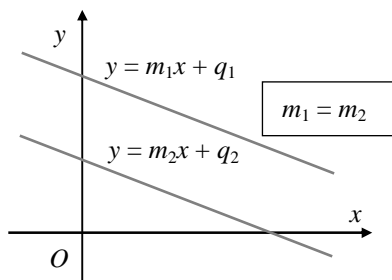
### Equazioni delle bisettrici dei quadranti

1° e 3° quadrante  $y = x$

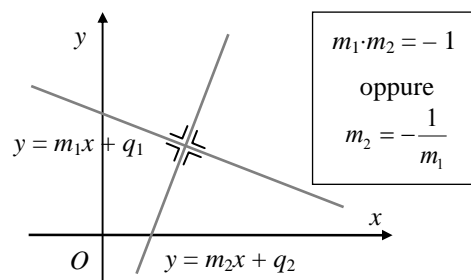
2° e 4° quadrante  $y = -x$



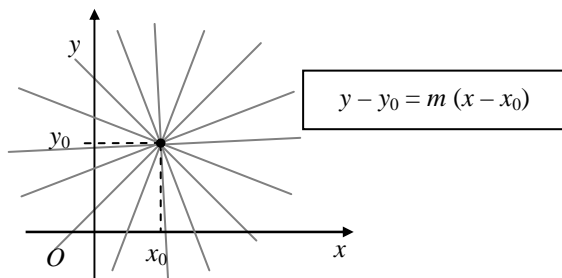
### Condizione di parallelismo



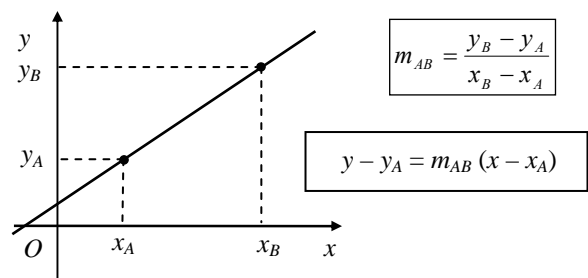
### Condizione di perpendicolarità



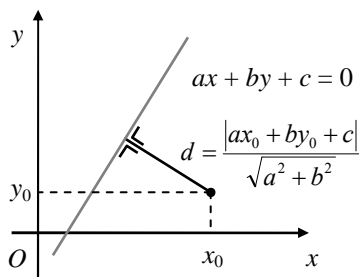
### Retta passante per un punto $(x_0; y_0)$



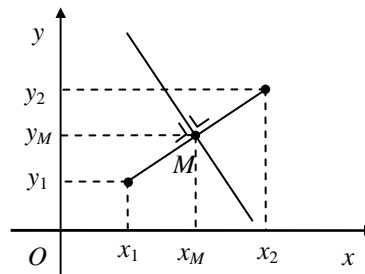
### Retta passante per due punti $A$ e $B$



### Distanza di un punto $(x_0; y_0)$ dalla retta $ax + by + c = 0$



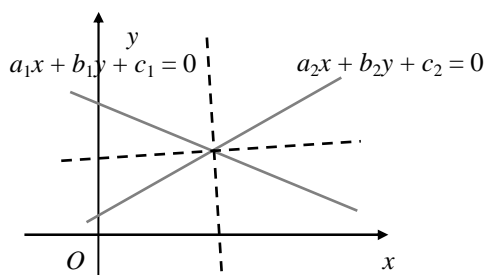
### Asse di un segmento di estremi $A(x_1; y_1)$ e $B(x_2; y_2)$



$$(x - x_1)^2 + (y - y_1)^2 = (x - x_2)^2 + (y - y_2)^2$$

oppure  $y - y_M = -\frac{1}{m_{AB}}(x - x_M)$

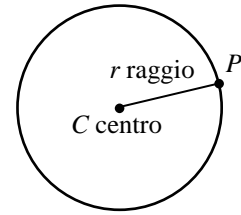
### Bisettrici degli angoli formati da due rette $a_1x + b_1y + c_1 = 0$ e $a_2x + b_2y + c_2 = 0$



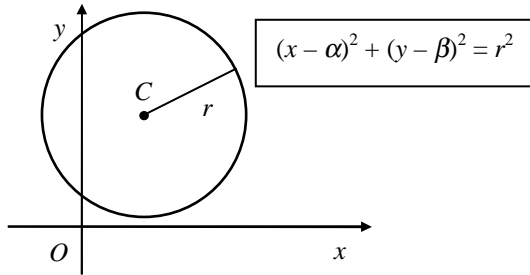
$$\frac{a_1x + b_1y + c_1}{\sqrt{a_1^2 + b_1^2}} = \pm \frac{a_2x + b_2y + c_2}{\sqrt{a_2^2 + b_2^2}}$$

## La circonferenza

**Definizione di circonferenza:**  $\overline{PC} = r$



**Equazione della circonferenza con centro  $C(\alpha; \beta)$  e raggio  $r$**



**Equazione canonica della circonferenza**

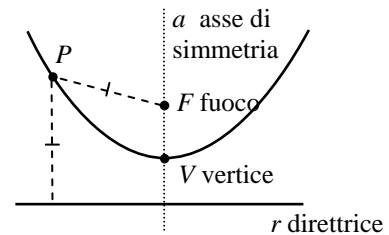
$$x^2 + y^2 + ax + by + c = 0 \quad \text{con} \quad a^2 + b^2 - 4c > 0$$

$$\text{Centro } C\left(-\frac{a}{2}; -\frac{b}{2}\right)$$

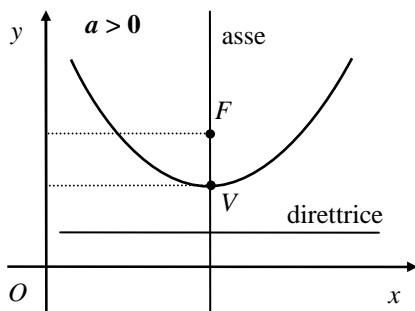
$$\text{Raggio } r = \sqrt{\left(-\frac{a}{2}\right)^2 + \left(-\frac{b}{2}\right)^2 - c}$$

## La parabola

**Definizione di parabola:**  $\overline{PF} = d(P; r)$



**Parabola con asse di simmetria parallelo all'asse y**



Equazione:  $y = ax^2 + bx + c \quad \Delta = b^2 - 4ac$

$a > 0$  la concavità è rivolta verso l'alto

$a < 0$  la concavità è rivolta verso il basso

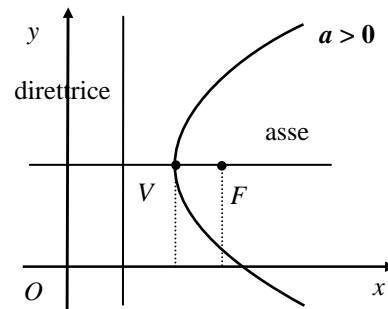
Asse di simmetria  $x = -\frac{b}{2a}$

Vertice  $V\left(-\frac{b}{2a}; -\frac{\Delta}{4a}\right)$

Fuoco  $F\left(-\frac{b}{2a}; \frac{1-\Delta}{4a}\right)$

Direttrice  $y = -\frac{1+\Delta}{4a}$

**Parabola con asse di simmetria parallelo all'asse x**



Equazione:  $x = ay^2 + by + c \quad \Delta = b^2 - 4ac$

$a > 0$  la concavità è rivolta verso destra

$a < 0$  la concavità è rivolta verso sinistra

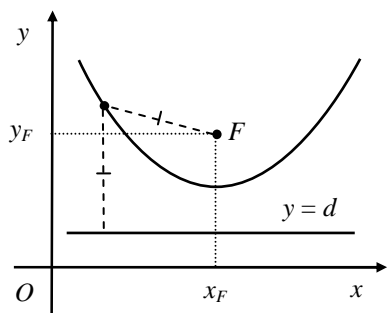
Asse di simmetria  $y = -\frac{b}{2a}$

Vertice  $V\left(-\frac{\Delta}{4a}; -\frac{b}{2a}\right)$

Fuoco  $F\left(\frac{1-\Delta}{4a}; -\frac{b}{2a}\right)$

Direttrice  $x = -\frac{1+\Delta}{4a}$

**Parabola avente direttrice  $y = d$  e fuoco  $F$**

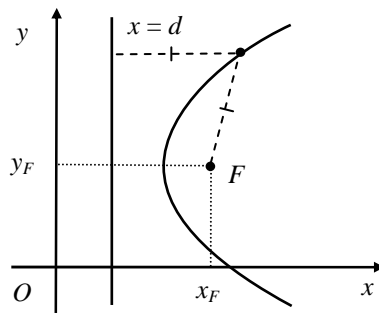


$$(y - d)^2 = (x - x_F)^2 + (y - y_F)^2$$

**Equazione della parabola di vertice  $V$  ed asse parallelo all'asse  $y$**

$$y - y_V = a (x - x_V)^2$$

**Parabola avente direttrice  $x = d$  e fuoco  $F$**



$$(x - d)^2 = (x - x_F)^2 + (y - y_F)^2$$

**Equazione della parabola di vertice  $V$  ed asse parallelo all'asse  $x$**

$$x - x_V = a (y - y_V)^2$$

**L'ellisse**

**Definizione di ellisse:**  $\overline{PF_1} + \overline{PF_2} = 2a$  con  $a > 0$

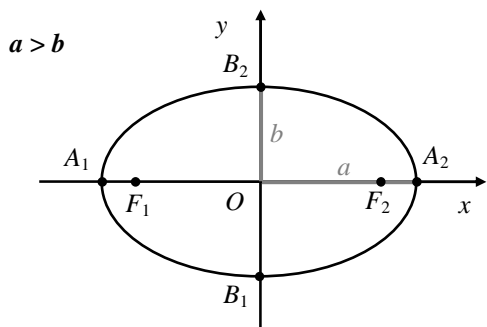
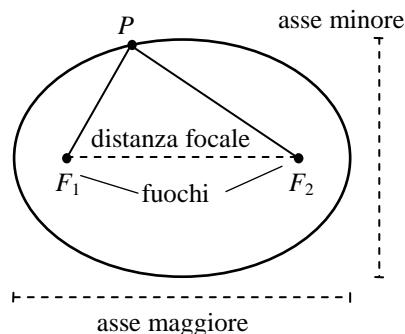
Distanza focale:  $\overline{F_1F_2} = 2c$

$$b = \sqrt{a^2 - c^2} \quad c = \sqrt{a^2 - b^2}$$

Eccentricità:  $e = \frac{\text{distanza focale}}{\text{lunghezza dell'asse maggiore}}$

**Equazione dell'ellisse riferita agli assi**

$$\frac{x^2}{a^2} + \frac{y^2}{b^2} = 1$$



Vertici:  $A_1(-a; 0)$ ,  $A_2(a; 0)$ ,  $B_1(0; -b)$ ,  $B_2(0; b)$

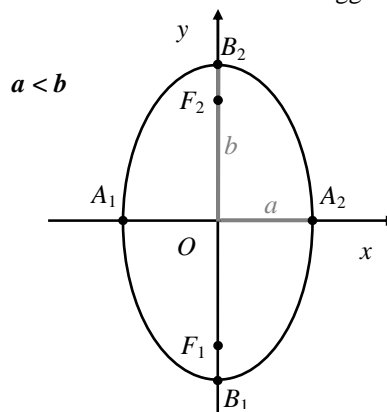
$a > b$

i fuochi sono sull'asse  $x$   $F_1(-c; 0)$ ,  $F_2(c; 0)$

asse maggiore  $\overline{A_1A_2} = 2a$

asse minore  $\overline{B_1B_2} = 2b$

eccentricità  $e = \frac{c}{a}$



$a < b$

i fuochi sono sull'asse  $y$   $F_1(0; -c)$ ,  $F_2(0; c)$

asse maggiore  $\overline{B_1B_2} = 2b$

asse minore  $\overline{A_1A_2} = 2a$

eccentricità  $e = \frac{c}{b}$

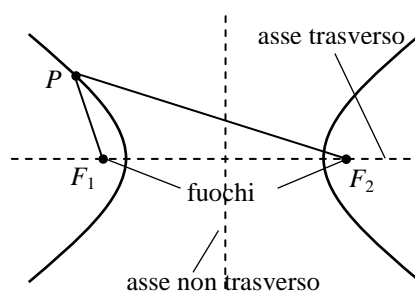
## L'iperbole

**Definizione di iperbole:**  $|\overline{PF_1} - \overline{PF_2}| = 2a$  con  $a > 0$

Distanza focale:  $\overline{F_1F_2} = 2c$

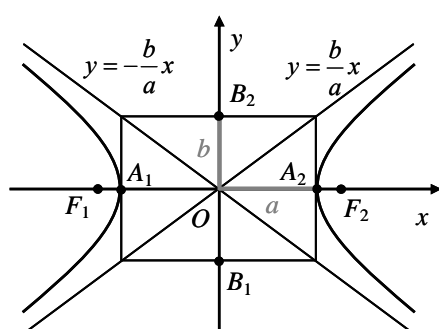
$$b = \sqrt{c^2 - a^2} \quad c = \sqrt{a^2 + b^2}$$

Eccentricità:  $e = \frac{\text{distanza focale}}{\text{lunghezza dell'asse trasverso}}$



### Equazione dell'iperbole riferita agli assi

Se i fuochi appartengono all'asse  $x$ :  $\frac{x^2}{a^2} - \frac{y^2}{b^2} = 1$



vertici reali:  $A_1(-a; 0), A_2(a; 0)$

vertici non reali  $B_1(0; -b), B_2(0; b)$

fuochi  $F_1(-c; 0), F_2(c; 0)$

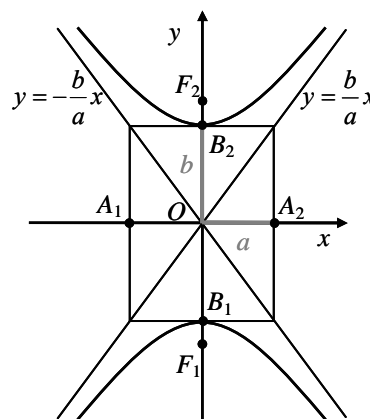
asintoti  $y = \pm \frac{b}{a}x$

asse trasverso  $\overline{A_1A_2} = 2a$

asse non trasverso  $\overline{B_1B_2} = 2b$

eccentricità  $e = \frac{c}{a}$

Se i fuochi appartengono all'asse  $y$ :  $\frac{x^2}{a^2} - \frac{y^2}{b^2} = -1$



vertici reali:  $B_1(0; -b), B_2(0; b)$

vertici non reali  $A_1(-a; 0), A_2(a; 0)$

fuochi  $F_1(0; -c), F_2(0; c)$

asintoti  $y = \pm \frac{b}{a}x$

asse trasverso  $\overline{B_1B_2} = 2b$

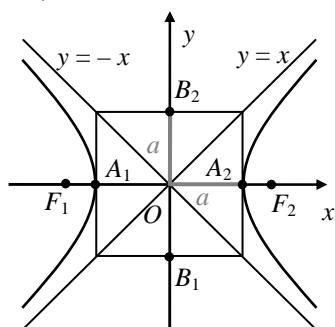
asse non trasverso  $\overline{A_1A_2} = 2a$

eccentricità  $e = \frac{c}{b}$

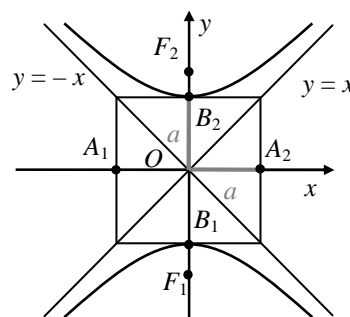
**Iperbole equilatera**  $\overline{A_1A_2} = \overline{B_1B_2} \Leftrightarrow a = b$

$$c = a\sqrt{2}$$

asintoti  $y = \pm x$



Se i fuochi appartengono all'asse  $x$ :  $x^2 - y^2 = a^2$

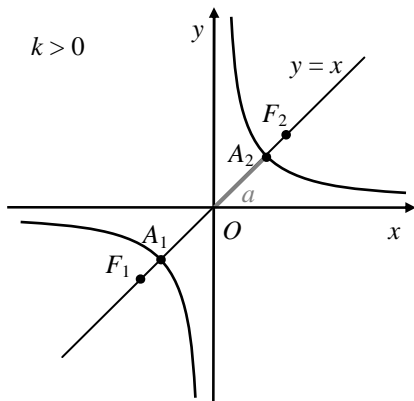


Se i fuochi appartengono all'asse  $y$ :  $x^2 - y^2 = -a^2$

**Equazione dell'iperbole equilatera riferita agli asintoti:**  $xy = k$  con  $k \neq 0$

$$a = \sqrt{2k} \quad c = 2\sqrt{k}$$

$k > 0$  i vertici e i fuochi sono sulla bisettrice

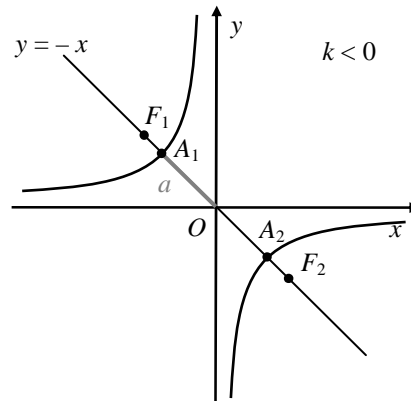


del primo e del terzo quadrante

vertici  $A_1(-\sqrt{k}; -\sqrt{k})$   $A_2(\sqrt{k}; \sqrt{k})$

fuochi  $F_1(-\sqrt{2k}; -\sqrt{2k})$   $F_2(\sqrt{2k}; \sqrt{2k})$

$k < 0$  i vertici e i fuochi sono sulla bisettrice



del secondo e del quarto quadrante

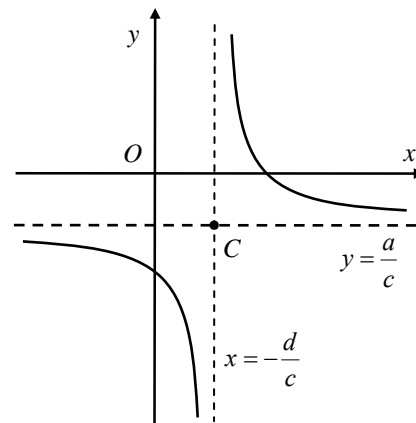
vertici  $A_1(-\sqrt{-k}; \sqrt{-k})$   $A_2(\sqrt{-k}; -\sqrt{-k})$

vertici  $F_1(-\sqrt{-2k}; \sqrt{-2k})$   $F_2(\sqrt{-2k}; -\sqrt{-2k})$

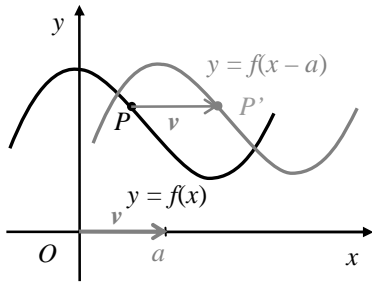
**Funzione omografica**  $y = \frac{ax+b}{cx+d}$  con  $c \neq 0$  e  $ad - bc \neq 0$

asintoti:  $y = \frac{a}{c}$  e  $x = -\frac{d}{c}$

centro di simmetria:  $C\left(-\frac{d}{c}; \frac{a}{c}\right)$

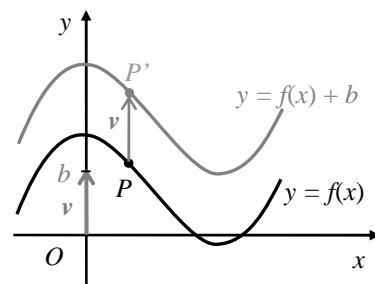


## Grafici trasformati



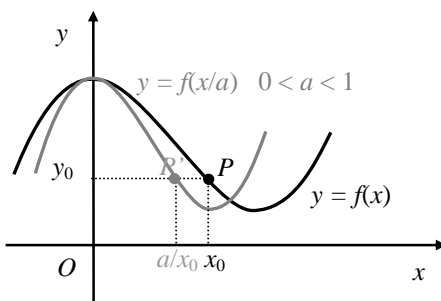
Il grafico della funzione  $y = f(x - a)$  si ottiene **traslando** orizzontalmente il grafico della funzione  $y = f(x)$  del vettore  $v = (a; 0)$ .

Se  $a > 0$  la traslazione è verso destra, se  $a < 0$  la traslazione avviene a sinistra.

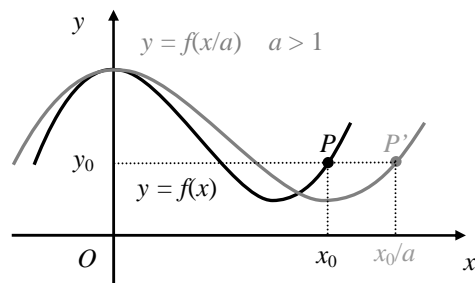


Il grafico della funzione  $y = f(x) + b$  si ottiene **traslando** verticalmente il grafico della funzione  $y = f(x)$  del vettore  $v = (0; b)$ .

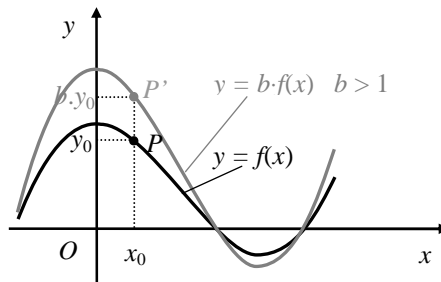
Se  $b > 0$  la traslazione è verso l'alto, se  $b < 0$  la traslazione è verso il basso.



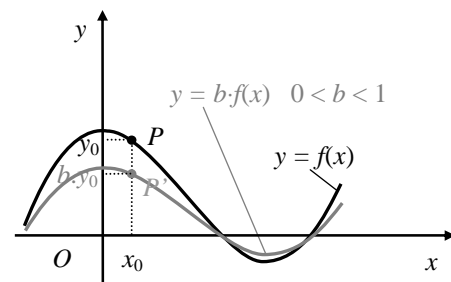
Se  $0 < a < 1$  il grafico trasformato  $y = f(x/a)$  appare *contratto orizzontalmente* rispetto a quello di partenza.



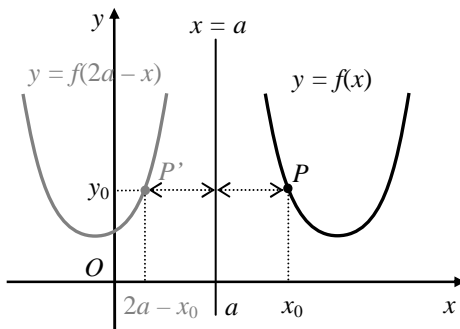
Se  $a > 1$  il grafico trasformato  $y = f(x/a)$  appare *dilatato orizzontalmente* rispetto a quello di partenza.



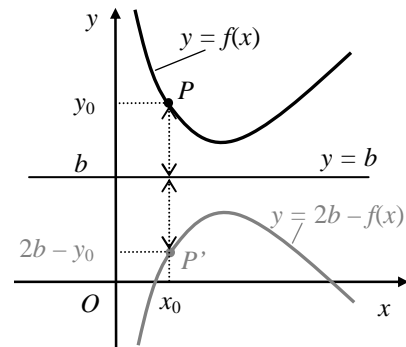
Se  $b > 1$  il grafico trasformato appare *dilatato verticalmente* rispetto a quello di partenza;



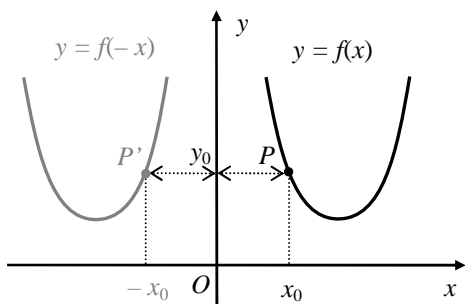
Se  $0 < b < 1$  il grafico trasformato appare *contratto verticalmente* rispetto a quello di partenza.



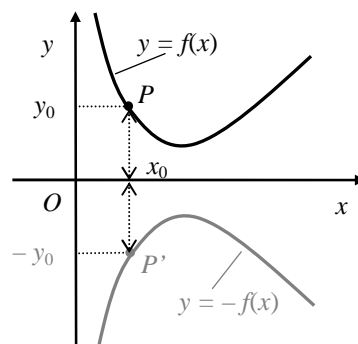
Il grafico trasformato  $y = f(2a - x)$  è il simmetrico del grafico  $y = f(x)$  rispetto alla retta  $x = a$



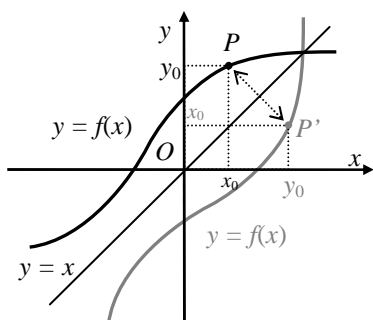
Il grafico trasformato  $y = 2b - f(x)$  è il simmetrico del grafico  $y = f(x)$  rispetto alla retta  $x = a$



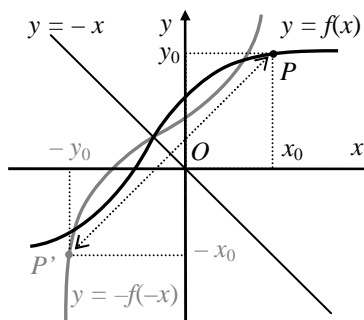
Il grafico trasformato  $y = f(-x)$  è il simmetrico del grafico  $y = f(x)$  rispetto all'asse  $y$  ( $x = 0$ )



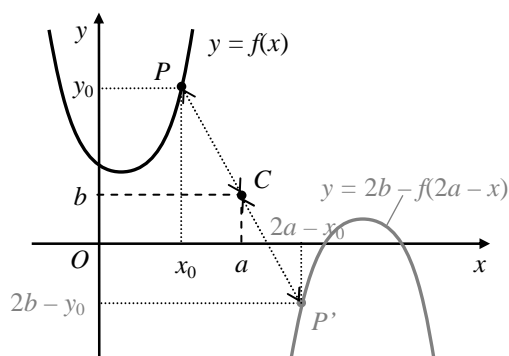
Il grafico trasformato  $y = -f(x)$  è il simmetrico del grafico  $y = f(x)$  rispetto all'asse  $x$  ( $y = 0$ )



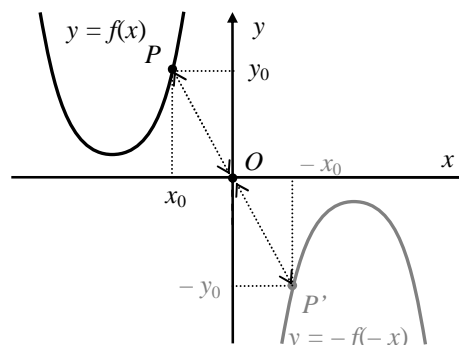
Se  $f$  è una funzione biunivoca, il grafico trasformato  $y = f^{-1}(x)$  è il simmetrico del grafico  $y = f(x)$  rispetto alla bisettrice del primo e del terzo quadrante.



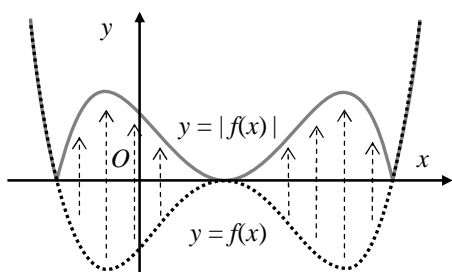
Se  $f$  è una funzione biunivoca, il grafico trasformato  $y = -f^{-1}(-x)$  è il simmetrico del grafico  $y = f(x)$  rispetto alla bisettrice del secondo e del quarto quadrante.



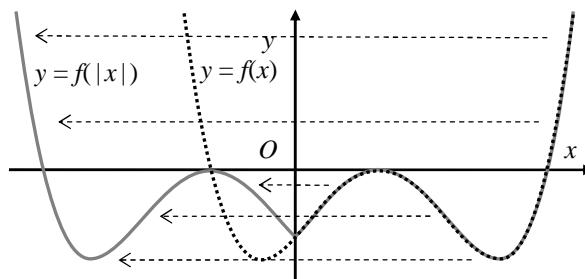
Il grafico trasformato  $y = 2b - f(2a - x)$  è il simmetrico del grafico  $y = f(x)$  rispetto al punto  $C(a; b)$ .



Il grafico trasformato  $y = -f(-x)$  è il simmetrico del grafico  $y = f(x)$  rispetto all'origine  $O(0; 0)$ .



Il grafico della funzione  $y = |f(x)|$  coincide con quello della funzione  $y = f(x)$  negli intervalli in cui  $f(x) \geq 0$ ; coincide col grafico simmetrico di  $f$  rispetto all'asse  $x$ ,  $y = -f(x)$ , negli intervalli in cui  $f(x) < 0$ .



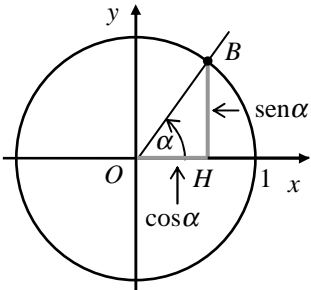
Il grafico della funzione  $y = f(|x|)$  coincide con quello della funzione  $y = f(x)$  nel semipiano delle ascisse  $x \geq 0$ ; coincide col grafico simmetrico di  $f$  rispetto all'asse  $y$ ,  $y = f(-x)$ , nel semipiano delle ascisse  $x < 0$ .



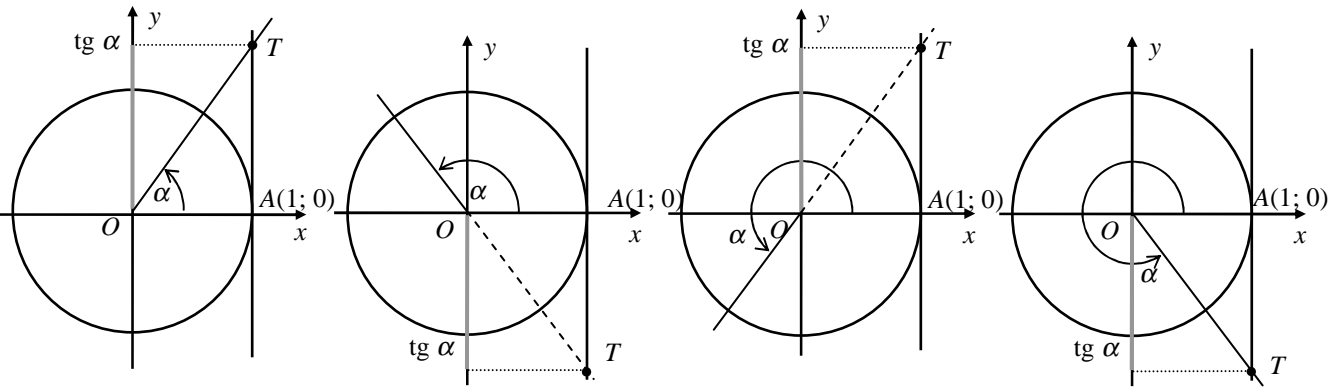
# Goniometria

## Funzioni goniometriche

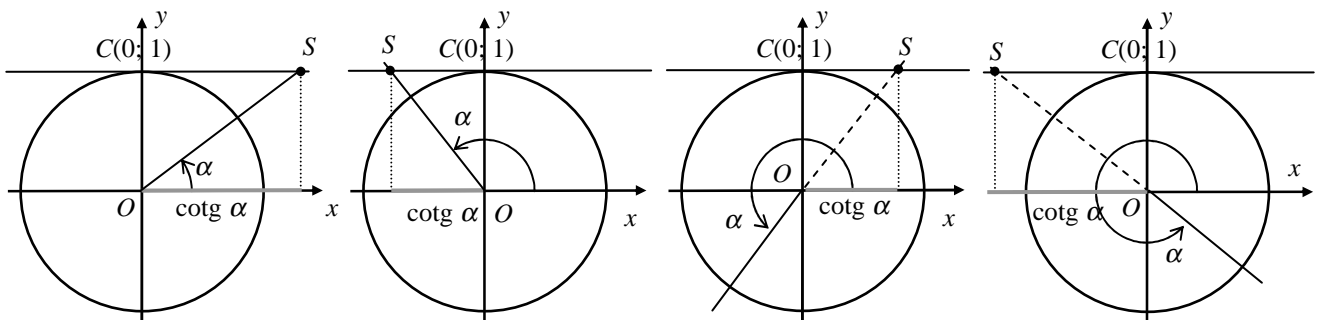
### Seno e coseno



### Tangente

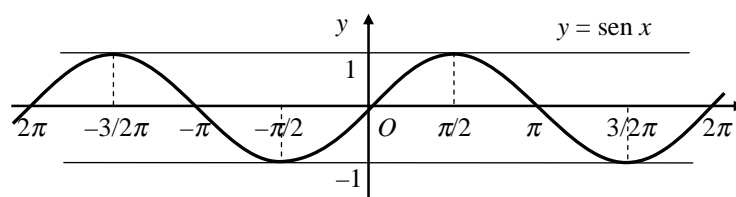


### Cotangente



## Grafici e proprietà delle funzioni goniometriche

### Funzione seno



Dominio  $D = R$

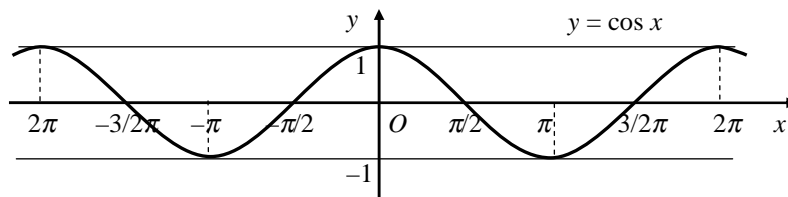
Codominio  $C = [-1; 1]$

Periodicità  $\forall k \in Z \quad \sin(x + 2k\pi) = \sin x$ ,

Limitando lo studio all'intervallo  $[-\pi; \pi]$

- la funzione è crescente in  $\left(-\frac{\pi}{2}; \frac{\pi}{2}\right)$
- la funzione è decrescente in  $\left(-\pi; -\frac{\pi}{2}\right) \cup \left(\frac{\pi}{2}; \pi\right)$

### Funzione coseno



Dominio  $D = R$

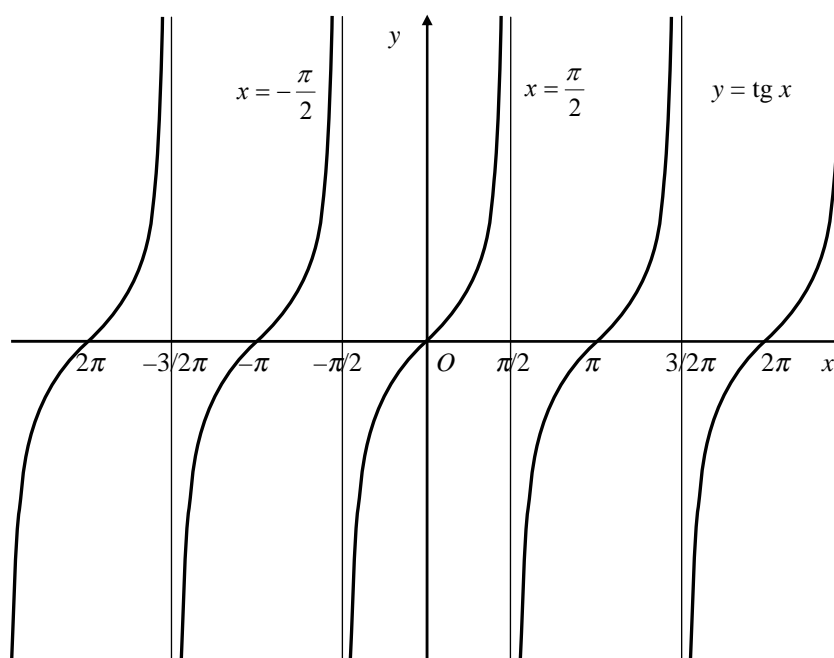
Codominio  $C = [-1; 1]$

Periodicità  $\forall k \in Z \quad \cos(x + 2k\pi) = \cos x$ ,

Limitando lo studio all'intervallo  $[-\pi; \pi]$

- la funzione è crescente in  $(-\pi; 0)$
- la funzione è decrescente in  $(0; \pi)$

### Funzione tangente



Dominio  $D = R - \{ \pi/2 + k\pi \mid k \in Z \}$

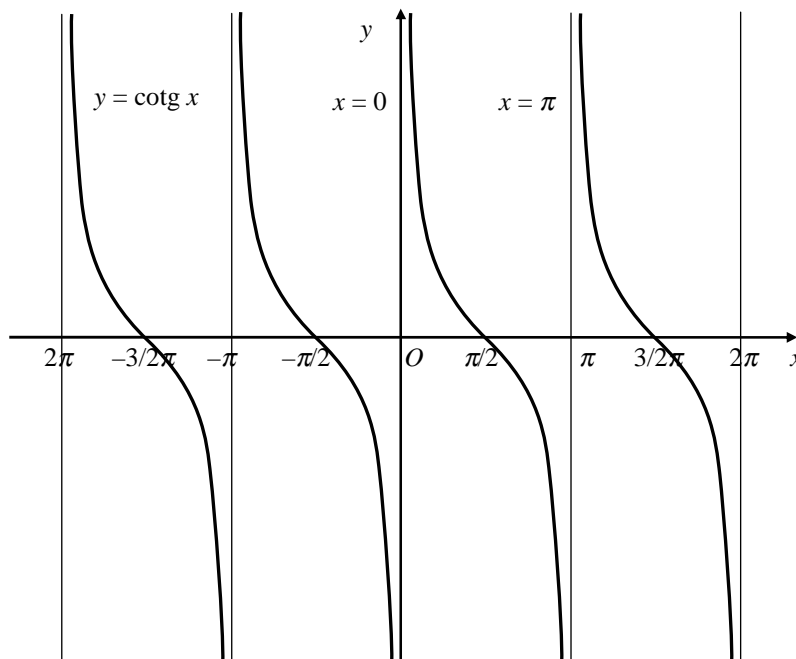
Codominio  $C = R$

Periodicit :  $\forall k \in Z \quad \text{tg}(x + k\pi) = \text{tg } x$

Limitando lo studio all'intervallo  $\left(-\frac{\pi}{2}; \frac{\pi}{2}\right)$

- la funzione   crescente nell'intervallo
- $\lim_{x \rightarrow \left(\frac{\pi}{2}\right)^-} \text{tg } x = +\infty \quad \lim_{x \rightarrow \left(-\frac{\pi}{2}\right)^+} \text{tg } x = -\infty$
- $x = \pm \frac{\pi}{2}$  asintoti verticali

### Funzione cotangente



Dominio  $D = R - \{ k\pi \mid k \in Z \}$

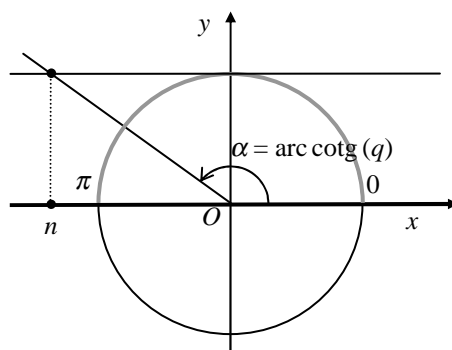
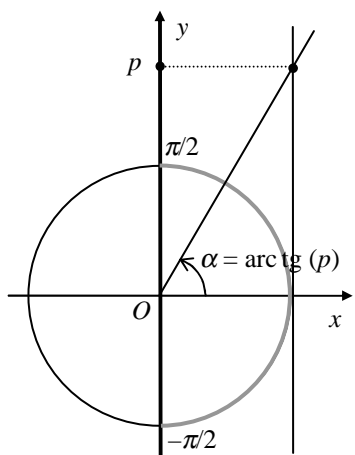
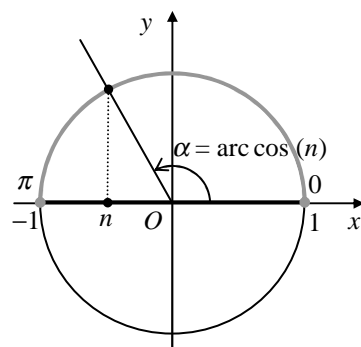
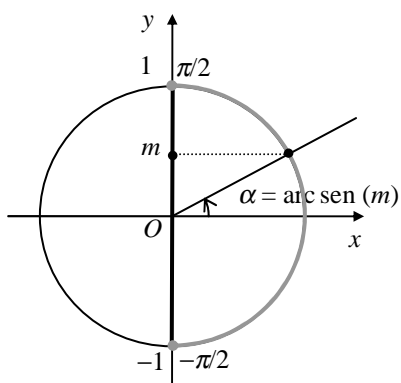
Codominio  $C = R$

Periodicit :  $\forall k \in Z \quad \text{cotg}(x + k\pi) = \text{cotg } x$

Limitando lo studio all'intervallo  $(0; \pi)$

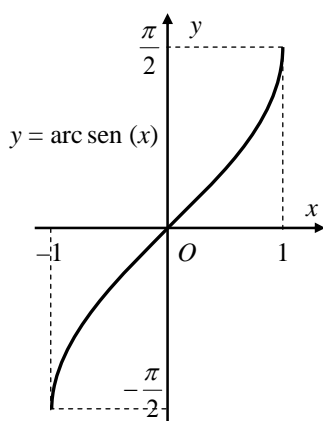
- la funzione   decrescente nell'intervallo
- $\lim_{x \rightarrow 0^+} \text{cotg } x = +\infty \quad \lim_{x \rightarrow \pi^-} \text{cotg } x = -\infty$
- $x = 0$  e  $x = \pi$  asintoti verticali

## Funzioni goniometriche inverse



## Grafici e proprietà delle funzioni goniometriche inverse

### Funzione arcseno

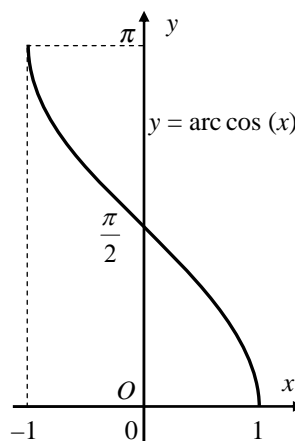


Dominio  $D = [-1; 1]$

Codominio  $\left[-\frac{\pi}{2}; \frac{\pi}{2}\right]$

La funzione è crescente nel dominio

### Funzione arcocoseno

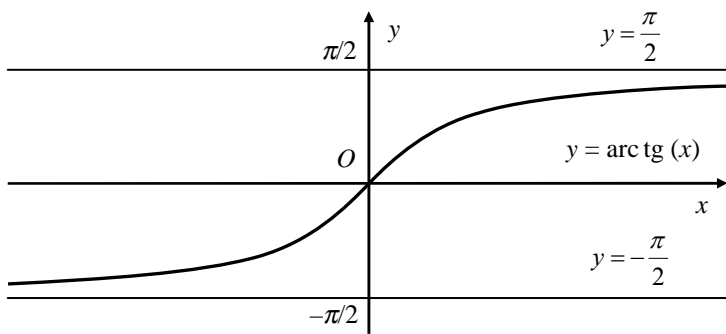


Dominio  $D = [-1; 1]$

Codominio  $[0; \pi]$

La funzione è decrescente nel dominio

### Funzione arcotangente



Dominio  $R$

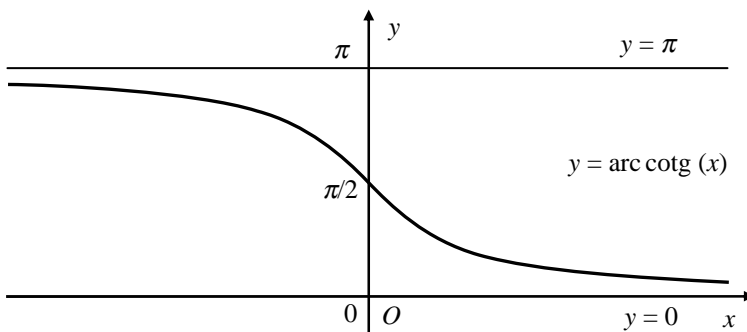
Codominio  $\left(-\frac{\pi}{2}; \frac{\pi}{2}\right)$

La funzione è crescente nel dominio

$$\lim_{x \rightarrow \pm\infty} \text{arc tg}(x) = \pm \frac{\pi}{2},$$

$y = \pm \frac{\pi}{2}$  asintoti orizzontali

### Funzione arcocotangente



Dominio  $R$

Codominio  $(0; \pi)$

La funzione è decrescente nel dominio

$$\lim_{x \rightarrow +\infty} \text{arc cotg}(x) = 0$$

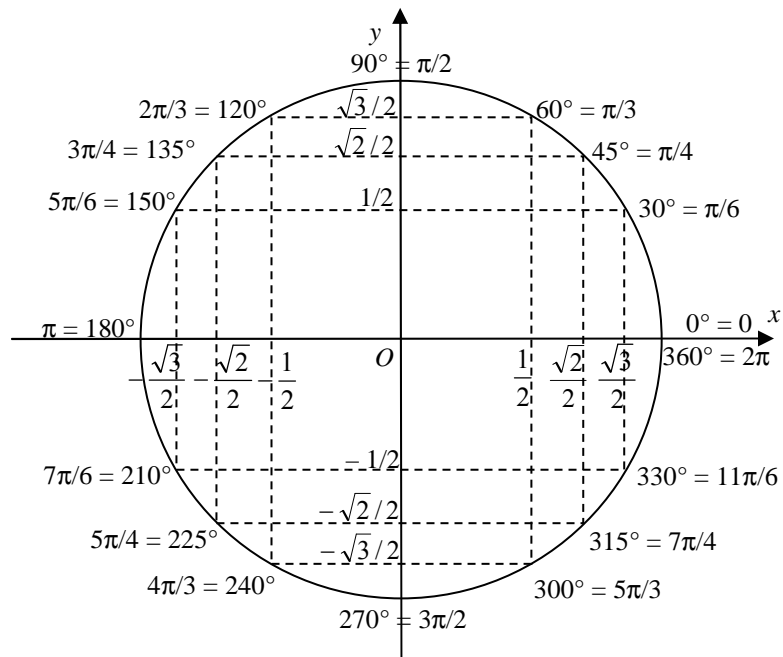
$$\lim_{x \rightarrow -\infty} \text{arc cotg}(x) = \pi$$

$y = 0$  e  $y = \pi$  asintoti orizzontali

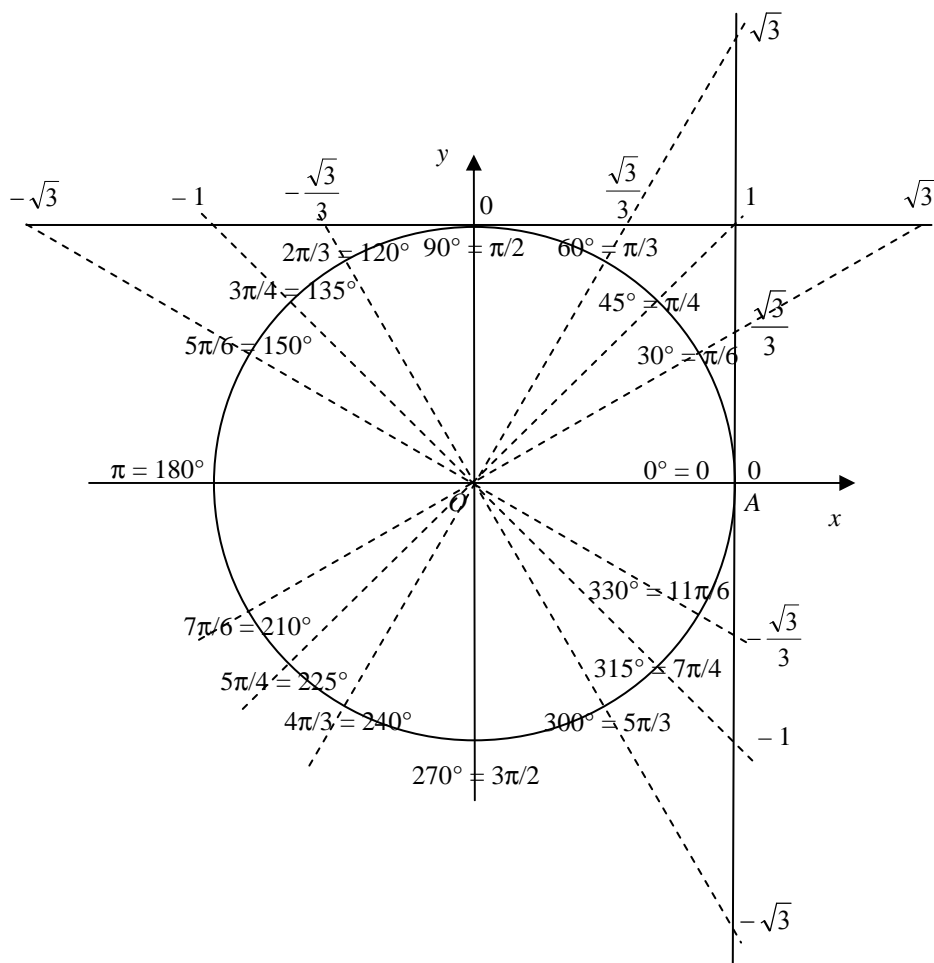
## Funzioni goniometriche di angoli particolari

Misura in gradi	Misura in radianti	seno	coseno	tangente	cotangente
0°	0	0	1	0	non esiste ( $\infty$ )
15°	$\frac{\pi}{12}$	$\frac{\sqrt{6}-\sqrt{2}}{4}$	$\frac{\sqrt{6}+\sqrt{2}}{4}$	$2-\sqrt{3}$	$2+\sqrt{3}$
18°	$\frac{\pi}{10}$	$\frac{\sqrt{5}-1}{4}$	$\frac{\sqrt{10+2\sqrt{5}}}{4}$	$\frac{\sqrt{25-10\sqrt{5}}}{5}$	$\sqrt{5+2\sqrt{5}}$
22°30'	$\frac{\pi}{8}$	$\frac{\sqrt{2}-\sqrt{2}}{2}$	$\frac{\sqrt{2}+\sqrt{2}}{2}$	$\sqrt{2}-1$	$\sqrt{2}+1$
30°	$\frac{\pi}{6}$	$\frac{1}{2}$	$\frac{\sqrt{3}}{2}$	$\frac{\sqrt{3}}{3}$	$\sqrt{3}$
36°	$\frac{\pi}{5}$	$\frac{\sqrt{10-2\sqrt{5}}}{4}$	$\frac{\sqrt{5}+1}{4}$	$\sqrt{5-2\sqrt{5}}$	$\frac{\sqrt{25+10\sqrt{5}}}{5}$
45°	$\frac{\pi}{4}$	$\frac{\sqrt{2}}{2}$	$\frac{\sqrt{2}}{2}$	1	1
54°	$\frac{3}{10}\pi$	$\frac{\sqrt{5}+1}{4}$	$\frac{\sqrt{10-2\sqrt{5}}}{4}$	$\frac{\sqrt{25+10\sqrt{5}}}{5}$	$\sqrt{5-2\sqrt{5}}$
60°	$\frac{\pi}{3}$	$\frac{\sqrt{3}}{2}$	$\frac{1}{2}$	$\sqrt{3}$	$\frac{\sqrt{3}}{3}$
67°30'	$\frac{3}{8}\pi$	$\frac{\sqrt{2}+\sqrt{2}}{2}$	$\frac{\sqrt{2}-\sqrt{2}}{2}$	$\sqrt{2}+1$	$\sqrt{2}-1$
72°	$\frac{2}{5}\pi$	$\frac{\sqrt{10+2\sqrt{5}}}{4}$	$\frac{\sqrt{5}-1}{4}$	$\sqrt{5+2\sqrt{5}}$	$\frac{\sqrt{25-10\sqrt{5}}}{5}$
75°	$\frac{5}{12}\pi$	$\frac{\sqrt{6}+\sqrt{2}}{4}$	$\frac{\sqrt{6}-\sqrt{2}}{4}$	$2+\sqrt{3}$	$2-\sqrt{3}$
90°	$\frac{\pi}{2}$	1	0	non esiste ( $\infty$ )	0

## Seno e coseno di alcuni angoli notevoli e dei loro associati



## Tangente e cotangente di alcuni angoli notevoli e dei loro associati



## Relazioni e proprietà fondamentali

Relazioni tra le funzioni goniometriche di uno stesso angolo

$$\begin{array}{l} \text{sen}^2\alpha + \text{cos}^2\alpha = 1 \\ \quad \swarrow \quad \searrow \\ \text{sen}^2\alpha = 1 - \text{cos}^2\alpha \\ \text{cos}^2\alpha = 1 - \text{sen}^2\alpha \end{array} \quad \text{tg } \alpha = \frac{\text{sen } \alpha}{\text{cos } \alpha} \quad \alpha \neq 90^\circ + k180^\circ$$

$$\text{cotg } \alpha = \frac{\text{cos } \alpha}{\text{sen } \alpha} \quad \alpha \neq k180^\circ \quad \text{cotg } \alpha = \frac{1}{\text{tg } \alpha} \quad \alpha \neq k90^\circ$$

$$\text{cos}^2\alpha = \frac{1}{1 + \text{tg}^2\alpha} \quad \text{e} \quad \text{sen}^2\alpha = \frac{\text{tg}^2\alpha}{1 + \text{tg}^2\alpha} \quad \text{con } \alpha \neq 90^\circ + k180^\circ$$

## Formule goniometriche

### Formule di addizione e sottrazione

$$\text{sen}(\alpha + \beta) = \text{sen } \alpha \text{ cos } \beta + \text{cos } \alpha \text{ sen } \beta \quad \text{sen}(\alpha - \beta) = \text{sen } \alpha \text{ cos } \beta - \text{cos } \alpha \text{ sen } \beta$$

$$\text{cos}(\alpha + \beta) = \text{cos } \alpha \text{ cos } \beta - \text{sen } \alpha \text{ sen } \beta \quad \text{cos}(\alpha - \beta) = \text{cos } \alpha \text{ cos } \beta + \text{sen } \alpha \text{ sen } \beta$$

$$\text{tg}(\alpha + \beta) = \frac{\text{tg } \alpha + \text{tg } \beta}{1 - \text{tg } \alpha \text{ tg } \beta} \quad \text{con } \alpha, \beta, \alpha + \beta \neq 90^\circ + k180^\circ$$

$$\text{tg}(\alpha - \beta) = \frac{\text{tg } \alpha - \text{tg } \beta}{1 + \text{tg } \alpha \text{ tg } \beta} \quad \text{con } \alpha, \beta, \alpha - \beta \neq 90^\circ + k180^\circ$$

### Formule di duplicazione

$$\text{sen } 2\alpha = 2 \text{ sen } \alpha \text{ cos } \alpha$$

$$\text{cos } 2\alpha = \text{cos}^2\alpha - \text{sen}^2\alpha = \begin{cases} 1 - 2 \text{sen}^2\alpha \\ 2 \text{cos}^2\alpha - 1 \end{cases}$$

$$\text{tg } 2\alpha = \frac{2 \text{tg } \alpha}{1 - \text{tg}^2\alpha} \quad \text{con } \alpha \neq 45^\circ + k90^\circ \wedge \alpha \neq 90^\circ + k180^\circ$$

### Formule parametriche

$$\text{sen } \alpha = \frac{2t}{1+t^2} \quad \text{cos } \alpha = \frac{1-t^2}{1+t^2} \quad \text{con } t = \text{tg } \frac{\alpha}{2} \quad \text{e} \quad \alpha \neq 180^\circ + k360^\circ$$



$$\operatorname{tg} \alpha = \frac{2t}{1-t^2} \quad \text{con } t = \operatorname{tg} \frac{\alpha}{2} \quad \text{e } \alpha \neq 90^\circ + k180^\circ \wedge \alpha \neq 180^\circ + k360^\circ$$

### Formule di bisezione

$$\operatorname{sen} \frac{\alpha}{2} = \pm \sqrt{\frac{1 - \cos \alpha}{2}} \quad \cos \frac{\alpha}{2} = \pm \sqrt{\frac{1 + \cos \alpha}{2}}$$

$$\operatorname{tg} \frac{\alpha}{2} = \pm \sqrt{\frac{1 - \cos \alpha}{1 + \cos \alpha}} \quad \text{con } \alpha \neq 180^\circ + k360^\circ$$

$$\operatorname{tg} \frac{\alpha}{2} = \frac{\operatorname{sen} \alpha}{1 + \cos \alpha} \quad \text{con } \alpha \neq 180^\circ + k360^\circ \quad \operatorname{tg} \frac{\alpha}{2} = \frac{1 - \cos \alpha}{\operatorname{sen} \alpha} \quad \text{con } \alpha \neq k180^\circ$$

### Formule di prostaferesi

$$\begin{aligned} \operatorname{sen} p + \operatorname{sen} q &= 2 \operatorname{sen} \frac{p+q}{2} \cos \frac{p-q}{2}; & \cos p + \cos q &= 2 \cos \frac{p+q}{2} \cos \frac{p-q}{2} \\ \operatorname{sen} p - \operatorname{sen} q &= 2 \cos \frac{p+q}{2} \operatorname{sen} \frac{p-q}{2}; & \cos p - \cos q &= -2 \operatorname{sen} \frac{p+q}{2} \operatorname{sen} \frac{p-q}{2} \end{aligned}$$

### Formule di Werner

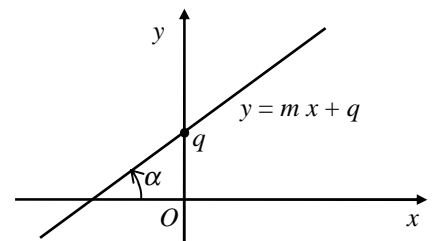
$$\operatorname{sen} \alpha \operatorname{sen} \beta = \frac{1}{2} [\cos(\alpha - \beta) - \cos(\alpha + \beta)]$$

$$\cos \alpha \cos \beta = \frac{1}{2} [\cos(\alpha + \beta) + \cos(\alpha - \beta)]$$

$$\operatorname{sen} \alpha \cos \beta = \frac{1}{2} [\operatorname{sen}(\alpha + \beta) + \operatorname{sen}(\alpha - \beta)]$$

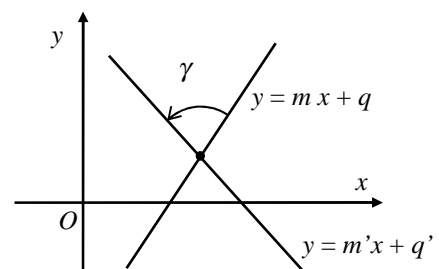
### Angolo tra una retta nel piano cartesiano e l'asse delle ascisse

$$m = \operatorname{tg} \alpha$$



### Angolo tra due rette nel piano cartesiano

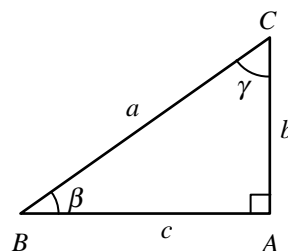
$$\operatorname{tg} \gamma = \left| \frac{m - m'}{1 + m m'} \right|$$



# Trigonometria

## Primo teorema sui triangoli rettangoli

$$\begin{aligned} b &= a \operatorname{sen} \beta & c &= a \cos \beta \\ b &= a \cos \gamma & c &= a \operatorname{sen} \gamma. \end{aligned}$$



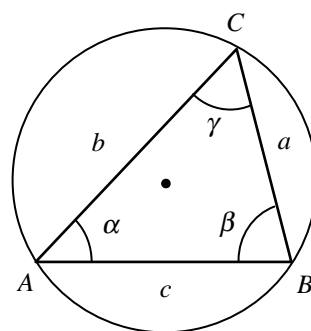
## Secondo teorema sui triangoli rettangoli

$$\begin{aligned} b &= c \operatorname{cotg} \gamma & c &= b \operatorname{tg} \gamma \\ b &= c \operatorname{tg} \beta & c &= b \operatorname{cotg} \beta. \end{aligned}$$

## Teorema dei seni

Se indichiamo con  $r$  il raggio della circonferenza circoscritta ad un qualunque triangolo

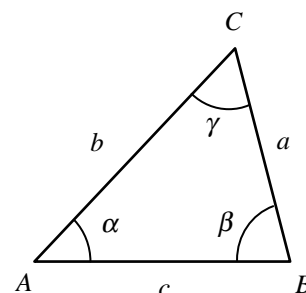
$$\frac{a}{\operatorname{sen} \alpha} = \frac{b}{\operatorname{sen} \beta} = \frac{c}{\operatorname{sen} \gamma} = 2r.$$



## Teorema del coseno

Per un qualunque triangolo:

$$\begin{aligned} a^2 &= b^2 + c^2 - 2bc \cos \alpha \\ b^2 &= a^2 + c^2 - 2ac \cos \beta \\ c^2 &= a^2 + b^2 - 2ab \cos \gamma \end{aligned}$$



Invertendo queste relazioni rispetto ai coseni:

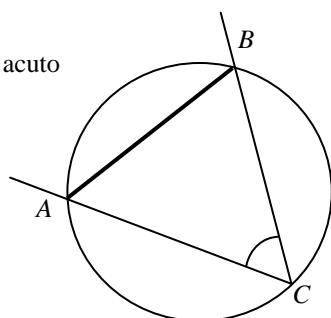
$$\cos \alpha = \frac{b^2 + c^2 - a^2}{2bc} \quad \cos \beta = \frac{a^2 + c^2 - b^2}{2ac} \quad \cos \gamma = \frac{a^2 + b^2 - c^2}{2ab}.$$

## Il teorema sulla corda

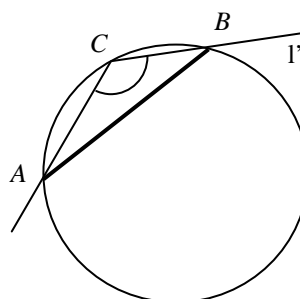
Sia  $AB$  una qualunque corda di una circonferenza e  $\hat{ACB}$  uno degli angoli alla circonferenza da essa sotteso.

$$\overline{AB} = 2r \cdot \operatorname{sen} \hat{ACB}.$$

l'angolo  $\hat{ACB}$  è acuto



l'angolo  $\hat{ACB}$  è ottuso



## Esponenziali

Siano  $a$  un numero *reale*, ed  $n$  un numero naturale. Si definisce:

$$a^n = \begin{cases} 1 & \text{se } n = 0 \\ a & \text{se } n = 1 \\ \underbrace{a \cdot a \cdot \dots \cdot a}_{n\text{-volte}} & \text{se } n > 1 \end{cases} \quad a^{-n} = \frac{1}{a^n}$$

Dato un numero reale  $a \geq 0$  e un numero razionale  $m/n > 0$ , si definisce:

$$a^{\frac{m}{n}} = \sqrt[n]{a^m} \quad a^{-\frac{m}{n}} = \frac{1}{a^{\frac{m}{n}}} = \frac{1}{\sqrt[n]{a^m}}$$

Dato un numero reale  $a > 0$  e un numero irrazionale  $\alpha$ , indicate con  $\beta_1, \beta_2, \dots$  e  $\gamma_1, \gamma_2, \dots$  due classi contigue di numeri razionali che hanno  $\alpha$  come elemento separatore, si definisce  $a^\alpha$  come l'elemento separatore delle due classi contigue di potenze ad esponente razionale  $a^{\beta_1}, a^{\beta_2}, \dots$  e  $a^{\gamma_1}, a^{\gamma_2}, \dots$ . Si definisce poi  $0^\alpha = 0$  per ogni numero reale  $\alpha > 0$ .

Per le potenze ad esponente reale, valgono le proprietà:

1.  $\forall x, y \in \mathbb{R} \quad a^x \cdot a^y = a^{x+y}$
2.  $\forall x, y \in \mathbb{R} \quad a^x : a^y = a^{x-y}$
3.  $\forall x, y \in \mathbb{R} \quad (a^x)^y = a^{x \cdot y}$
4. Se  $a > 0$ ,  $\forall x \in \mathbb{R} \quad a^x > 0$
5. Se  $a > 0$ ,  $\forall x \in \mathbb{R} \quad a^{-x} = \frac{1}{a^x}$ .

## Funzioni esponenziali

Sia  $a$  un prefissato numero reale positivo, si definisce **funzione esponenziale di base  $a$**  la funzione di equazione:

$$y = a^x.$$

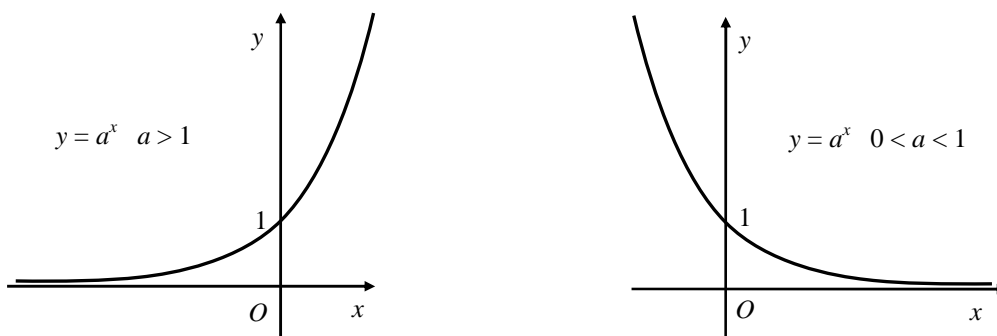
### Proprietà

1. Dominio  $D = \mathbb{R}$ ;
2. Se  $a \neq 1$ , codominio  $C = (0; +\infty)$ ;  
Se  $a > 1$
3. la funzione è crescente:  $x_1 < x_2 \Rightarrow a^{x_1} < a^{x_2}$
4.  $\lim_{x \rightarrow +\infty} a^x = +\infty$ ;  $\lim_{x \rightarrow -\infty} a^x = 0$ .

Se  $0 < a < 1$

3. la funzione è decrescente:  $x_1 < x_2 \Rightarrow a^{x_1} > a^{x_2}$
4.  $\lim_{x \rightarrow +\infty} a^x = 0$ ;  $\lim_{x \rightarrow -\infty} a^x = +\infty$ .

Riportiamo di seguito i due grafici:



5. Osserviamo che entrambe le curve passano per il punto (0; 1).

## Logaritmi

Sia  $b > 0$ ,  $a \neq 1$ ,  $b > 0$ , il logaritmo in base  $a$  di  $b$  è l'esponente da attribuire ad  $a$  per ottenere una potenza uguale a  $b$ .

$$\log_a b = c \Leftrightarrow a^c = b \quad a > 0, a \neq 1, b > 0$$

Identità fondamentali

$$a^{\log_a b} = b$$

$$\log_a a^c = c$$

## Proprietà dei logaritmi

se  $m > 0$ ,  $n > 0$ ,  $b > 0$

**logaritmo di un prodotto**

$$\log_a (m \cdot n) = \log_a m + \log_a n$$

**logaritmo di un quoziente**

$$\log_a \frac{m}{n} = \log_a m - \log_a n$$

**logaritmo di una potenza**

$$\log_a b^c = c \cdot \log_a b$$

**Formule del cambiamento di base**

$$\log_a b = \frac{\log_c b}{\log_c a} \quad \log_a b = \frac{1}{\log_b a}$$

## Funzioni logaritmiche

Sia  $a$  un prefissato numero reale positivo diverso da 1, si definisce **funzione logaritmica di base  $a$**  la funzione di equazione:

$$y = \log_a x.$$

### Proprietà

1. dominio  $D = (0; +\infty)$ ;
2. codominio  $C = \mathbb{R}$ ;

Se  $a > 1$

3. la funzione è crescente:  $x_1 < x_2 \Rightarrow \log_a x_1 < \log_a x_2$

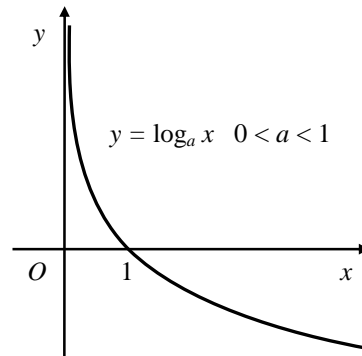
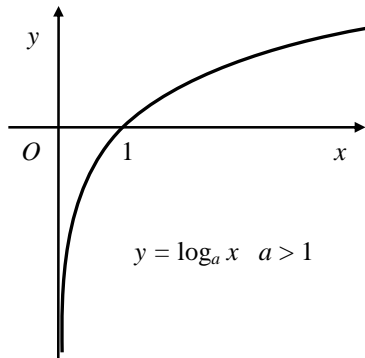
4.  $\lim_{x \rightarrow 0} \log_a x = -\infty$ ;  $\lim_{x \rightarrow +\infty} \log_a x = +\infty$ .

Se  $0 < a < 1$

3. la funzione è decrescente:  $x_1 < x_2 \Rightarrow \log_a x_1 > \log_a x_2$

4.  $\lim_{x \rightarrow 0} \log_a x = +\infty$ ;  $\lim_{x \rightarrow +\infty} \log_a x = -\infty$ .

Riportiamo di seguito i due grafici:



5. entrambe le curve passano per il punto  $(1; 0)$ .

## Schemi risolutivi di disequazioni di vario tipo

### Disequazioni potenza $[g(x)]^n \geq 0$ , $n \in \mathbf{N} \wedge n \geq 2$

Se $n$ è pari	$[g(x)]^n > 0 \Leftrightarrow g(x) \neq 0$
	$[g(x)]^n = 0 \Leftrightarrow g(x) = 0$
	$[g(x)]^n < 0$ impossibile
Se $n$ è dispari	$[g(x)]^n \geq 0 \Leftrightarrow g(x) \geq 0$

### Disequazioni binomie $ax^n + b \geq 0$ , $n \in \mathbf{N} \wedge n \geq 2$

Se  $n$  è pari la disequazione si risolve in modo simile alla disequazione di 2° grado  $ax^2 + b \geq 0$

Se  $n$  è dispari la disequazione si risolve in modo simile alle disequazioni di 1° grado con la differenza che dopo aver isolato  $x^n$  al primo membro, occorre calcolare la radice  $n$ -sima di entrambi i membri.

### Disequazioni trinomie $ax^{2n} + bx^n + c \geq 0$ , $n \in \mathbf{N} \wedge n > 2$

- Si considera il trinomio al primo membro  $ax^{2n} + bx^n + c$  e si esegue la sostituzione  $x^n = t$  ottenendo il trinomio di 2° grado  $at^2 + bt + c$ ;
- si scompone il trinomio  $at^2 + bt + c$  in fattori, ottenendo  $at^2 + bt + c = a(t - t_1)(t - t_2)$ ;
- con la sostituzione inversa  $t = x^n$  otteniamo la scomposizione del trinomio al primo membro della disequazione iniziale nel prodotto di due binomi:  $ax^{2n} + bx^n + c = a(x^n - t_1)(x^n - t_2)$ ;
- la disequazione di partenza si può quindi riscrivere nella forma:

$$a(x^n - t_1)(x^n - t_2) \geq 0$$

e si risolve con lo studio del segno dei fattori, ...

### Disequazioni irrazionali $\sqrt[n]{a(x)} \geq b(x)$ , $n \in \mathbf{N} \wedge n > 2$

Se  $n$  è pari

- la disequazione  $\sqrt[n]{a(x)} < b(x)$  è equivalente al sistema
 
$$\begin{cases} a(x) \geq 0 \\ b(x) > 0 \\ a(x) < [b(x)]^n \end{cases},$$

- la disequazione  $\sqrt[n]{a(x)} > b(x)$  ha per soluzioni l'unione delle soluzioni dei due sistemi
 
$$\begin{cases} b(x) < 0 \\ a(x) \geq 0 \end{cases} \quad \begin{cases} b(x) \geq 0 \\ a(x) > [b(x)]^n \end{cases},$$
 che devono essere risolti separatamente.

Se  $n$  è dispari la disequazione  $\sqrt[n]{a(x)} \geq b(x)$  è equivalente alla disequazione che si ottiene elevando entrambi i membri alla  $n$ , cioè

$$\sqrt[n]{a(x)} \geq b(x) \Leftrightarrow a(x) \geq [b(x)]^n$$

### Disequazioni in valore assoluto $|g(x)| \geq b$ , con $b \in \mathbb{R}$

Se  $b < 0$

- la disequazione  $|g(x)| \leq b$  è impossibile
- la disequazione  $|g(x)| > b$  è sempre vera (nel dominio di  $g(x)$ )

Se  $b \geq 0$

- la disequazione  $|g(x)| < b$  è equivalente a  $-b < g(x) < b$  oppure al sistema
 
$$\begin{cases} g(x) < b \\ g(x) > -b \end{cases}.$$

Conviene risolvere la disequazione  $-b < g(x) < b$  quando  $g(x)$  è una funzione monotona nel suo dominio.

- la disequazione  $|g(x)| > b$  ha per soluzioni l'unione delle soluzioni delle due disequazioni  $g(x) < -b \vee g(x) > b$ .

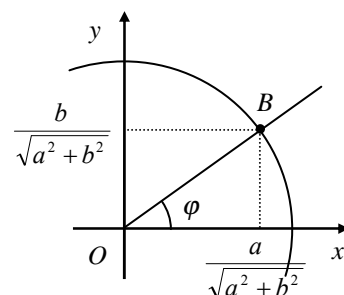
### Disequazioni goniometriche lineari $a \sin x + b \cos x \geq c$ , $a \cos x + b \sin x \geq c$

Supponiamo che la disequazione si presenti nella forma  $a \sin x + b \cos x \geq c$

- Dividiamo entrambi i membri della disequazione per  $\sqrt{a^2 + b^2}$

$$\frac{a}{\sqrt{a^2 + b^2}} \sin x + \frac{b}{\sqrt{a^2 + b^2}} \cos x \geq \frac{c}{\sqrt{a^2 + b^2}}$$

- Riportiamo sulla circonferenza goniometrica il punto  $B\left(\frac{a}{\sqrt{a^2 + b^2}}, \frac{b}{\sqrt{a^2 + b^2}}\right)$  e indichiamo con  $\varphi$  l'angolo  $-\pi \leq \varphi \leq \pi$  associato a  $B$ . Questo angolo, nella maggior parte dei casi, si ricava facilmente dalle tabelle degli angoli notevoli o da una figura fatta bene, altrimenti si ricava con la calcolatrice scientifica.



Dato che  $\cos \varphi = \frac{a}{\sqrt{a^2 + b^2}}$  e  $\sin \varphi = \frac{b}{\sqrt{a^2 + b^2}}$ ,

possiamo riscrivere la disequazione nella forma

$$\cos \varphi \cdot \sin x + \sin \varphi \cdot \cos x \geq \frac{c}{\sqrt{a^2 + b^2}}.$$

- Ricordando la formula di addizione del seno, riconosciamo che la somma al primo membro è uguale a  $\sin(x + \varphi)$ , quindi possiamo scrivere che

$$\sin(x + \varphi) \geq \frac{c}{\sqrt{a^2 + b^2}}.$$

Ci siamo ricondotti ad una disequazione goniometrica elementare. L'angolo  $\varphi$  viene detto **angolo aggiunto** e da il nome al metodo di risoluzione descritto.

Se la disequazione si presenta nella forma  $a \cos x + b \sin x \geq c$ , seguendo lo stesso ragionamento, dopo aver determinato un angolo  $-\pi \leq \varphi \leq \pi$  tale che:  $\cos \varphi = \frac{a}{\sqrt{a^2 + b^2}}$  e  $\sin \varphi = \frac{b}{\sqrt{a^2 + b^2}}$ ,<sup>1</sup>

la disequazione  $a \cos x + b \sin x \geq c$  è equivalente alla disequazione  $\cos(x - \varphi) \geq \frac{c}{\sqrt{a^2 + b^2}}$ .

## Disequazioni esponenziali

$$a^{g(x)} \geq b$$

- Se  $b \leq 0$
- la disequazione  $a^{g(x)} < b$  è impossibile
  - $a^{g(x)} \geq b$  è sempre vera (nel dominio di  $g(x)$ )

nel caso  $a > 1$   $a^{g(x)} \geq b \Leftrightarrow \log_a a^{g(x)} \geq \log_a b \Leftrightarrow g(x) \geq \log_a b$

nel caso  $0 < a < 1$   $a^{g(x)} \geq b \Leftrightarrow \log_a a^{g(x)} \geq \log_a b \Leftrightarrow g(x) \leq \log_a b$

Se  $b > 0$  Se  $b$  si può esprimere facilmente come potenza di  $a$ , cioè  $b = a^c$ , allora si può procedere più speditamente come segue:

nel caso  $a > 1$   $a^{g(x)} \geq a^c \Leftrightarrow g(x) \geq c$

nel caso  $0 < a < 1$   $a^{g(x)} \geq a^c \Leftrightarrow g(x) \leq c$

## Disequazioni logaritmiche $\log_a g(x) \geq b$

$$\log_a g(x) \geq b \Leftrightarrow \log_a g(x) \geq \log_a a^b$$

Se  $a > 1$  la disequazione è equivalente al sistema  $\begin{cases} g(x) > 0 \\ g(x) \geq a^b \end{cases}$

Se  $0 < a < 1$  la disequazione è equivalente al sistema  $\begin{cases} g(x) > 0 \\ g(x) \leq a^b \end{cases}$

<sup>1</sup> Ovvero che ha come punto associato sulla circonferenza goniometrica  $(\frac{a}{\sqrt{a^2+b^2}}, \frac{b}{\sqrt{a^2+b^2}})$

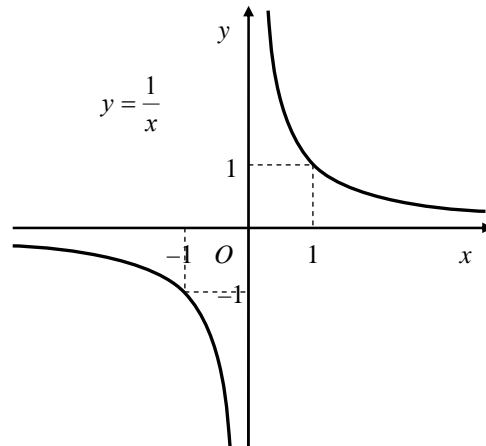
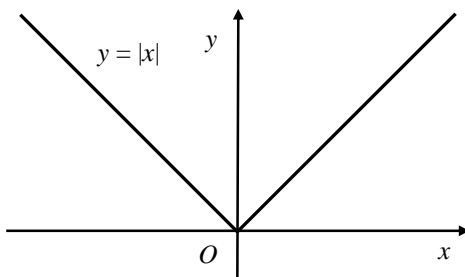
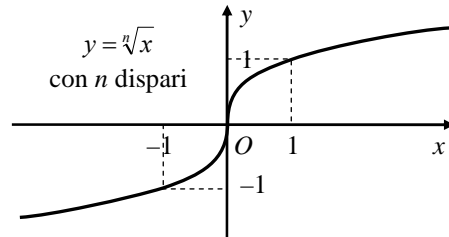
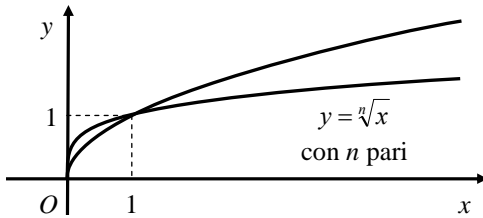
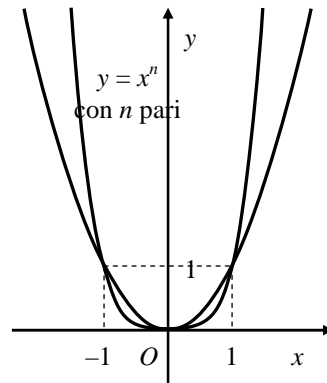
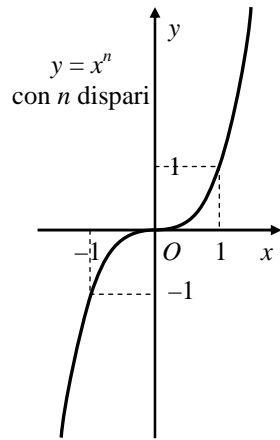


## Domini delle funzioni più comuni

Nello schema che segue  $g(x)$  indica una funzione qualunque funzione

Funzioni	Domini
Razionali intere	$R$
Razionali fratte	$R - \{\text{valori che annullano il denominatore}\}$
$y = \sqrt[n]{g(x)}$ $n$ pari	Soluzioni della disequazione $g(x) \geq 0$
$y = \sqrt[n]{g(x)}$ $n$ dispari	Dominio di $g(x)$
$y = a^{g(x)}$ , $a > 0$	Dominio di $g(x)$
$y = \log_a g(x)$ , $a > 0$ , $a \neq 1$	Soluzioni della disequazione $g(x) > 0$
$y = \text{sen } g(x)$ $y = \text{cos } g(x)$	Dominio di $g(x)$
$y = \text{tg } g(x)$	Soluzioni della disequazione $g(x) \neq \frac{\pi}{2} + k\pi$ , $k \in Z$
$y = \text{cotg } g(x)$	Soluzioni della disequazione $g(x) \neq k\pi$ , $k \in Z$
$y = \text{arc sen } g(x)$ $y = \text{arc cos } g(x)$	Soluzioni della disequazione $-1 \leq g(x) \leq 1$
$y = \text{arc tg } g(x)$ $y = \text{arc ctg } g(x)$	Dominio di $g(x)$
$y = [g(x)]^\alpha$ $\alpha$ irrazionale positivo	Soluzioni della disequazione $g(x) \geq 0$
$y = h(x)^{g(x)}$	Soluzioni dei sistemi $\begin{cases} h(x) > 0 \\ \text{Dominio di } g(x) \end{cases} \vee \begin{cases} h(x) = 0 \\ g(x) > 0 \end{cases}$

## Grafici delle principali funzioni algebriche



## Limiti

### Verifiche della correttezza dei limiti

1. $\lim_{x \rightarrow c} f(x) = l$	<p>Si risolve <math>\forall \varepsilon &gt; 0</math> la disequazione <math> f(x) - l  &lt; \varepsilon</math> e si verifica che l'insieme <math>S_\varepsilon</math> delle soluzioni contenga un intorno completo <math>(a_\varepsilon; b_\varepsilon)</math> di <math>c</math>, <math>c</math> eventualmente escluso.</p> <p>Se <math>x \rightarrow c^+</math> è sufficiente che <math>S_\varepsilon</math> contenga un intorno destro <math>(c; b_\varepsilon)</math> di <math>c</math></p> <p>Se <math>x \rightarrow c^-</math> è sufficiente che <math>S_\varepsilon</math> contenga un intorno sinistro <math>(a_\varepsilon; c)</math> di <math>c</math>.</p>
2. $\lim_{x \rightarrow \infty} f(x) = l$	<p>Si risolve <math>\forall \varepsilon &gt; 0</math> la disequazione <math> f(x) - l  &lt; \varepsilon</math> e si verifica che l'insieme <math>S_\varepsilon</math> delle soluzioni contenga un intorno <math>(-\infty; a_\varepsilon) \cup (b_\varepsilon; +\infty)</math> di <math>\infty</math>.</p> <p>Se <math>x \rightarrow +\infty</math> è sufficiente che <math>S_\varepsilon</math> contenga un intorno <math>(b_\varepsilon; +\infty)</math> di <math>+\infty</math>.</p> <p>Se <math>x \rightarrow -\infty</math> è sufficiente che <math>S_\varepsilon</math> contenga un intorno <math>(-\infty; a_\varepsilon)</math> di <math>-\infty</math>.</p>
3. $\lim_{x \rightarrow c} f(x) = +\infty$	<p>Si risolve <math>\forall M &gt; 0</math> la disequazione <math>f(x) &gt; M</math> e si verifica che l'insieme <math>S_M</math> delle soluzioni contenga un intorno completo <math>(a_M; b_M)</math> di <math>c</math>, <math>c</math> eventualmente escluso.</p> <p>Se <math>x \rightarrow c^+</math> è sufficiente che <math>S_M</math> contenga un intorno destro <math>(c; b_M)</math> di <math>c</math></p> <p>Se <math>x \rightarrow c^-</math> è sufficiente che <math>S_M</math> contenga un intorno sinistro <math>(a_M; c)</math> di <math>c</math>.</p>
4. $\lim_{x \rightarrow c} f(x) = -\infty$	<p>Si risolve <math>\forall M &gt; 0</math> la disequazione <math>f(x) &lt; -M</math> e si verifica che l'insieme <math>S_M</math> delle soluzioni contenga un intorno completo di <math>c</math>, <math>c</math> eventualmente escluso, come nel caso precedente. Lo stesso dicasi nei sottocasi <math>x \rightarrow c^+</math>, <math>x \rightarrow c^-</math>.</p>
5. $\lim_{x \rightarrow \infty} f(x) = +\infty$	<p>Si risolve <math>\forall M &gt; 0</math> la disequazione <math>f(x) &gt; M</math> e si verifica che l'insieme <math>S_M</math> delle soluzioni contenga un intorno <math>(-\infty; a_M) \cup (b_M; +\infty)</math> di <math>\infty</math>.</p> <p>Se <math>x \rightarrow +\infty</math> è sufficiente che <math>S_M</math> contenga un intorno <math>(b_M; +\infty)</math> di <math>+\infty</math>.</p> <p>Se <math>x \rightarrow -\infty</math> è sufficiente che <math>S_M</math> contenga un intorno <math>(-\infty; a_M)</math> di <math>-\infty</math>.</p>
6. $\lim_{x \rightarrow \infty} f(x) = -\infty$	<p>Si risolve <math>\forall M &gt; 0</math> la disequazione <math>f(x) &lt; -M</math> e si verifica che l'insieme <math>S_M</math> delle soluzioni contenga un intorno di <math>\infty</math>, come nel caso precedente. Lo stesso dicasi nei sottocasi <math>x \rightarrow +\infty</math>, <math>x \rightarrow -\infty</math>.</p>

### Limiti notevoli

$$\lim_{x \rightarrow \infty} \left(1 + \frac{1}{x}\right)^x = e$$

$$\lim_{x \rightarrow 0} (1+x)^{\frac{1}{x}} = e$$

$$\lim_{x \rightarrow 0} \frac{\log_a(1+x)}{x} = \log_a e = \frac{1}{\ln a}$$

$$\lim_{x \rightarrow 0} \frac{\ln(1+x)}{x} = 1$$

$$\lim_{x \rightarrow 0} \frac{a^x - 1}{x} = \log a$$

$$\lim_{x \rightarrow 0} \frac{e^x - 1}{x} = 1$$

$$\lim_{x \rightarrow 0} \frac{\sin x}{x} = 1 \quad (x \text{ in radianti})$$

$$\lim_{x \rightarrow 0} \frac{1 - \cos x}{x^2} = \frac{1}{2} \quad (x \text{ in radianti})$$

## Derivate

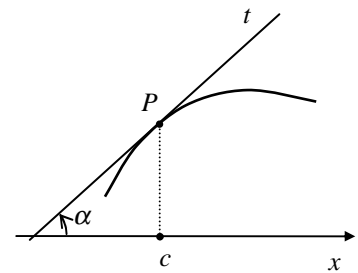
### Derivata di una funzione in un punto

Sia  $f$  una funzione definita in un punto  $c$ , il limite  $f'(c) = \lim_{h \rightarrow c} \frac{f(c+h) - f(c)}{h}$  quando esiste si chiama **derivata** della funzione nel punto  $c$ .

### Significato geometrico della derivata

$f'(c) = m_t$   $t$  retta tangente al grafico della funzione nel punto di ascissa  $c$

$$f'(c) = \operatorname{tg} \alpha$$



### Derivate delle funzioni elementari

#### Funzione

$$y = c$$

$$y = x$$

$$y = x^\alpha$$

$$y = \sqrt{x}$$

$$y = \sqrt[n]{x}$$

$$y = \sin x$$

$$y = \cos x$$

$$y = \operatorname{tg} x$$

$$y = \operatorname{cotg} x$$

$$y = \operatorname{arc} \sin x$$

$$y = \operatorname{arc} \cos x$$

$$y = \operatorname{arc} \operatorname{tg} x$$

#### Derivata

$$y' = 0$$

$$y' = 1$$

$$y' = \alpha x^{\alpha-1} \quad (\alpha \in \mathbb{R})$$

$$y' = \frac{1}{2\sqrt{x}}$$

$$y' = \frac{1}{n\sqrt[n]{x^{n-1}}}$$

$$y' = \cos x$$

$$y' = -\sin x$$

$$y' = 1 + \operatorname{tg}^2 x = \frac{1}{\cos^2 x}$$

$$y' = -(1 + \operatorname{cotg}^2 x) = -\frac{1}{\sin^2 x}$$

$$y' = \frac{1}{\sqrt{1-x^2}}$$

$$y' = -\frac{1}{\sqrt{1-x^2}}$$

$$y' = \frac{1}{1+x^2}$$

$$y = \operatorname{arc\,cotg} x$$

$$y = a^x$$

$$y = e^x$$

$$y = \log_a x$$

$$y = \ln x$$

$$y = \ln|x|$$

$$y' = -\frac{1}{1+x^2}$$

$$y' = a^x \ln a$$

$$y' = e^x$$

$$y' = \frac{1}{x} \log_a e = \frac{1}{x \ln a}$$

$$y' = \frac{1}{x}$$

$$y' = \frac{1}{x}$$

## Regole di derivazione

$$y = f(x) \pm g(x)$$

$$y = f(x)g(x)$$

$$y = \frac{f(x)}{g(x)}$$

$$y = \frac{1}{g(x)}$$

$$y = f[g(x)]$$

$$y' = f'(x) \pm g'(x)$$

$$y' = f'(x)g(x) + f(x)g'(x)$$

$$y' = \frac{f'(x)g(x) - f(x)g'(x)}{[g(x)]^2}$$

$$y' = -\frac{g'(x)}{[g(x)]^2}$$

$$y' = f'[g(x)] \cdot g'(x)$$

## Integrali

### Integrali indefiniti immediati

$$\int dx = x + C$$

$$\int x^\alpha dx = \frac{x^{\alpha+1}}{\alpha+1} + C, \quad \text{con } \alpha \neq -1$$

$$\int \frac{1}{x} dx = \ln|x| + C$$

$$\int \operatorname{sen} x dx = -\cos x + C$$

$$\int \cos x dx = \operatorname{sen} x + C$$

$$\int \operatorname{tg} x dx = -\ln|\cos x| + C$$

$$\int \operatorname{cotg} x dx = \ln|\operatorname{sen} x| + C$$

$$\int \frac{1}{\cos^2 x} dx = \operatorname{tg} x + C$$

$$\int \frac{1}{\operatorname{sen}^2 x} dx = -\operatorname{cotg} x + C$$

$$\int \frac{1}{\sqrt{1-x^2}} dx = \operatorname{arc} \operatorname{sen} x + C$$

$$\int \frac{1}{\sqrt{a^2-x^2}} dx = \operatorname{arc} \operatorname{sen} \frac{x}{a} + C, \quad a > 0$$

$$\int \frac{1}{1+x^2} dx = \operatorname{arc} \operatorname{tg} x + C$$

$$\int \frac{1}{m^2+x^2} dx = \frac{1}{m} \operatorname{arc} \operatorname{tg} \frac{x}{m} + C$$

$$\int \frac{1}{m^2+(x+k)^2} dx = \frac{1}{m} \operatorname{arc} \operatorname{tg} \frac{x+k}{m} + C$$

$$\int e^x dx = e^x + C$$

$$\int a^x dx = \frac{a^x}{\ln a} + C$$

## Regole di integrazione

### Integrazione immediata generalizzata

Se  $F$  è una primitiva di  $f$  allora  $\int f(g(x)) g'(x) dx = F(g(x)) + C$

### Integrazione per sostituzione

Se  $x = g(t)$  è una funzione invertibile e derivabile nel dominio di  $f$  e si riesce a calcolare l'integrale  $\int f(g(t)) g'(t) dx$ , allora

$$\int f(x) dx = \int f(g(t)) \cdot g'(t) dt \Big|_{t=g^{-1}(x)}$$

### Integrazione per parti

Se  $f$  e  $g$  sono due funzioni derivabili allora  $\int f(x)g'(x) dx = f(x)g(x) - \int g(x)f'(x) dx$

## Integrali definiti

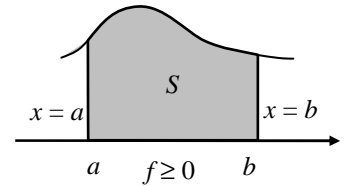
$$\int_a^b f(x) dx = F(b) - F(a) \quad \left( \text{con } \int f(x) dx = F(x) + c \right)$$

**Valor medio** di una funzione continua in un intervallo  $[a; b]$

$$V_m = \frac{1}{b-a} \int_a^b f(x) dx$$

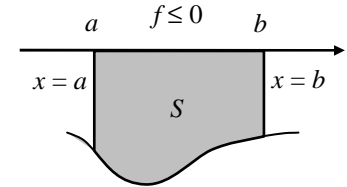
Se  $f \geq 0$  nell'intervallo  $[a; b]$  l'area del trapezoide delimitato dal grafico della funzione, dall'asse  $x$  e dalle rette  $x = a$  e  $x = b$  è

$$S = \int_a^b f(x) dx$$



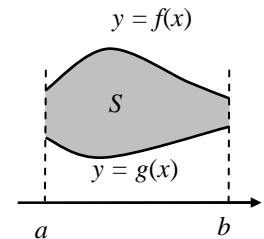
Se  $f \leq 0$  nell'intervallo  $[a; b]$  l'area del trapezoide delimitato dal grafico della funzione, dall'asse  $x$  e dalle rette  $x = a$  e  $x = b$  è

$$S = - \int_a^b f(x) dx.$$



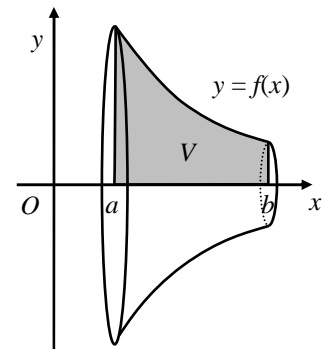
Area della regione di piano compresa tra i grafici di due funzioni  $f$  e  $g$

$$S = \int_a^b [f(x) - g(x)] dx$$



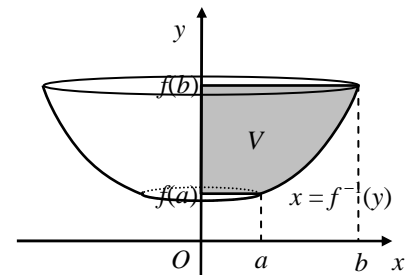
Volume di un solido generato dalla rotazione completa di un trapezoide intorno all'asse  $x$

$$V = \pi \int_a^b [f(x)]^2 dx$$

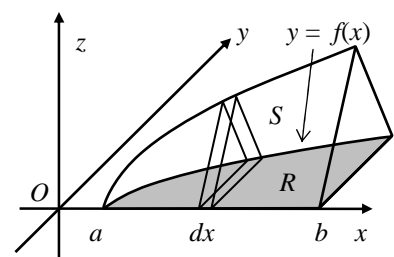


Volume di un solido generato dalla rotazione completa di un trapezoide intorno all'asse  $y$

$$V = \pi \int_{f(a)}^{f(b)} [f^{-1}(y)]^2 dy$$



Volume del solido  $S$  che ha per base il trapezoide delimitato dal grafico della funzione  $f(x) \geq 0$  e dall'intervallo  $[a, b]$ , le cui sezioni ottenute tagliando  $S$  con piani perpendicolari all'asse  $x$ , sono tutte poligoni regolari di  $n$  lati



$$V = \frac{n}{4} \cotg\left(\frac{\pi}{n}\right) \int_a^b [f(x)]^2 dx$$

## Calcolo combinatorio

**Disposizioni semplici di  $n$  elementi distinti di classe  $k$  (con  $k \leq n$ )**

$$D_{n,k} = \underbrace{n \cdot (n-1) \cdot (n-2) \cdot \dots \cdot (n-k+1)}_{k \text{ fattori}} = \frac{n!}{(n-k)!}$$

**Disposizioni con ripetizione di  $n$  elementi distinti di classe  $k$  (con  $k \leq n$ )**

$$D_{n,k} = n^k$$

**Permutazioni semplici di  $n$  elementi distinti**

$$P_{n,k} = D_{n,n} = n \cdot (n-1) \cdot (n-2) \cdot \dots \cdot 2 \cdot 1$$

**Combinazioni semplici di  $n$  elementi distinti di classe  $k$  (con  $k \leq n$ )**

$$C_{n,k} = \binom{n}{k} = \frac{D_{n,k}}{k!} = \frac{n \cdot (n-1) \cdot (n-2) \cdot \dots \cdot (n-k+1)}{k!} = \frac{n!}{k!(n-k)!}$$

**Formula di Stifel:**

$$\binom{n}{k} = \binom{n-1}{k-1} + \binom{n-1}{k}$$

**Potenza di un binomio:**

$$(A+B)^n = \sum_{k=0}^n \binom{n}{k} A^{n-k} B^k$$

## Progressioni

**Progressione aritmetica di ragione  $d$ :** è una successione  $a_1, a_2, \dots, a_n, \dots$  tale che

$$\forall n \geq 1 \quad a_{n+1} - a_n = d.$$

Valgono i seguenti risultati:

$$\forall n \geq 1 \quad a_n = a_1 + (n-1) \cdot d$$

$$\forall n \geq 1 \quad S_n = a_1 + a_2 + \dots + a_n = n \cdot \frac{a_1 + a_n}{2}$$

$$\lim_{n \rightarrow +\infty} a_n = \begin{cases} +\infty, & \text{se } d > 0 \\ -\infty, & \text{se } d < 0 \\ a_1, & \text{se } d = 0 \end{cases}$$

**Progressione geometrica di ragione  $q$ :** è una successione  $a_1, a_2, \dots, a_n, \dots$  tale che

$$\forall n \geq 1 \quad \frac{a_{n+1}}{a_n} = q.$$



Valgono i seguenti risultati:

$$\forall n \geq 1 \quad a_n = a_1 \cdot q^{n-1}$$

$$\forall n \geq 1 \quad S_n = a_1 + a_2 + \dots + a_n = a_1 \cdot \frac{q^n - 1}{q - 1}$$

$$\lim_{n \rightarrow +\infty} a_n = \begin{cases} a_1, & \text{se } q = 1 \\ 0, & \text{se } |q| < 1 \\ \infty, & \text{se } q > 1 \\ \text{non esiste} & \text{se } q \leq -1 \end{cases}$$